

2.

इस पृष्ठ पर न लिखें।

70th BPSC MAINS TEST SERIES 100% FREE

3.

इस हाशिए में उम्मीदवार कुछ न लिखें।
Candidates should not write in this margin.

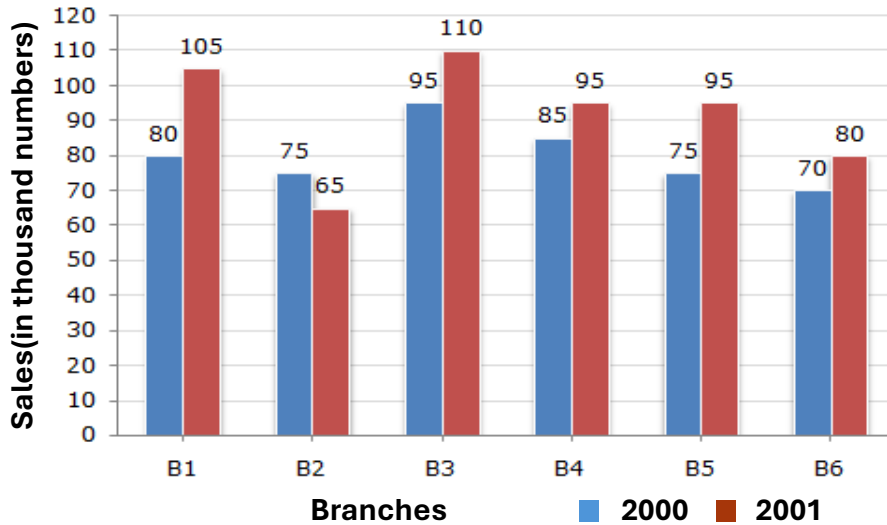
प्रश्नों के सामने बने सही बॉक्स में Tick ✓ का निशान लगायें।
Mark Tick ✓ in appropriate box in front of question no.

GENERAL STUDIES-I

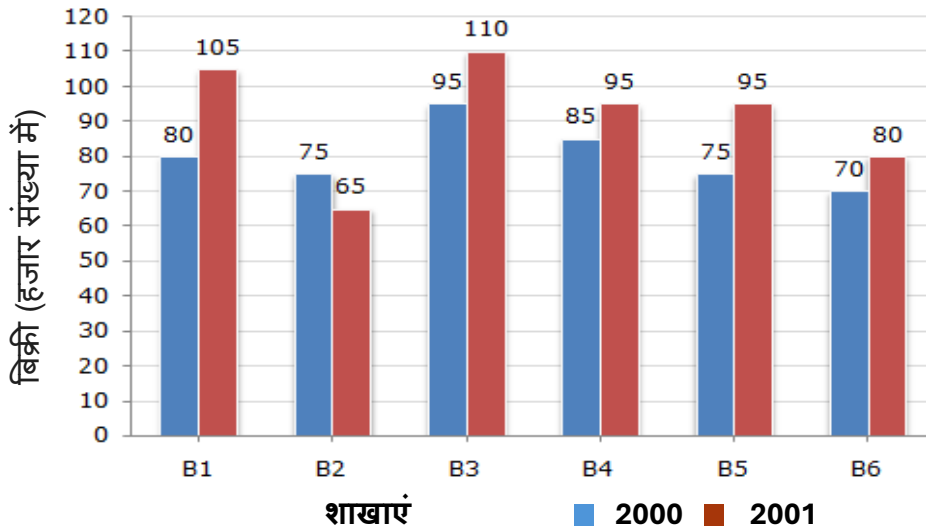
Time 3:00 hrs Full Marks -300

1. The bar graph given below shows the sales of books (in thousand number) from six branches of a publishing company during two consecutive years 2000 and 2001.

Sales of Books (in thousand numbers) from Six Branches B1, B2, B3, B4, B5 and B6 of a publishing Company in 2000 and 2001.



नीचे दिया गया बार ग्राफ लगातार दो वर्षों 2000 और 2001 के दौरान एक प्रकाशन कंपनी की छह शाखाओं से पुस्तकों की बिक्री (हजार संख्या में) दर्शाता है। 2000 और 2001 में एक प्रकाशन कंपनी की छह शाखाओं B1, B2, B3, B4, B5 और B6 से पुस्तकों की बिक्री (हजार संख्या में)।



70th BPSC MAINS TEST SERIES 100% FREE

4.

इस हाशिए में
उम्मीदवार कुछ
न लिखें।
Candidates
should not
write in
this margin.

GENERAL STUDIES-I

Time 3:00 hrs

Full Marks -300

- (a) What is the ratio of the total sales of branch B2 for both years to the total sales of branch B4 for both years? 8

दोनों वर्षों के लिए शाखा B2 की कुल बिक्री का दोनों वर्षों के लिए शाखा B4 की कुल बिक्री से अनुपात क्या है?

- (b) Total sales of branch B6 for both the years is what percent of the total sales of branches B3 for both the years? 8

दोनों वर्षों में शाखा B6 की कुल बिक्री, दोनों वर्षों में शाखा B3 की कुल बिक्री का कितना प्रतिशत है?

- (c) What percent of the average sales of branches B1, B2 and B3 in 2001 is the average sales of branches B1, B3 and B6 in 2000? 8

2001 में शाखाओं B1, B2 और B3 की औसत बिक्री सन् 2000 में शाखाओं B1, B3 और B6 की औसत बिक्री का कितना प्रतिशत है?

- (d) What is the average sales of all the branches (in thousand numbers) for the year 2000? 6

वर्ष 2000 के लिए सभी शाखाओं की औसत बिक्री (हजार संख्या में) क्या है?

- (e) Total sales of branches B1, B3 and B5 together for both the years (in thousand numbers) is? 6

दोनों वर्षों में शाखाओं B1, B3 और B5 की कुल बिक्री (हजार संख्या में) कितनी है?

प्रश्नों के सामने बने सही
बॉक्स में Tick ✓
का निशान लगायें।
Mark Tick
in appropriate box
in front of
question no.

70th BPSC MAINS TEST SERIES 100% FREE

5.

इस हाशिए में
उम्मीदवार कुछ
न लिखें।
Candidates
should not
write in
this margin.

प्रश्नों के सामने बने सही
बॉक्स में Tick ✓
का निशान लगायें।
Mark Tick
in appropriate box
in front of
question no.

GENERAL STUDIES-I

Time 3:00 hrs

Full Marks -300

70th BPSC MAINS TEST SERIES 100% FREE

6.

इस हाशिए में
उम्मीदवार कुछ
न लिखें।
Candidates
should not
write in
this margin.

प्रश्नों के सामने बने सही
बॉक्स में Tick ✓
का निशान लगायें।
Mark Tick
in appropriate box
in front of
question no.

GENERAL STUDIES-I

Time 3:00 hrs

Full Marks -300

70th BPSC MAINS TEST SERIES 100% FREE

7.

इस हाशिए में
उम्मीदवार कुछ
न लिखें।
Candidates
should not
write in
this margin.

प्रश्नों के सामने बने सही
बॉक्स में Tick ✓
का निशान लगायें।
Mark Tick
in appropriate box
in front of
question no.

GENERAL STUDIES-I

Time 3:00 hrs

Full Marks -300

70th BPSC MAINS TEST SERIES 100% FREE

8.

इस हाशिए में उम्मीदवार कुछ न लिखें।
Candidates should not write in this margin.

प्रश्नों के सामने बने सही बॉक्स में Tick ✓ का निशान लगायें।
Mark Tick in appropriate box in front of question no.

GENERAL STUDIES-I

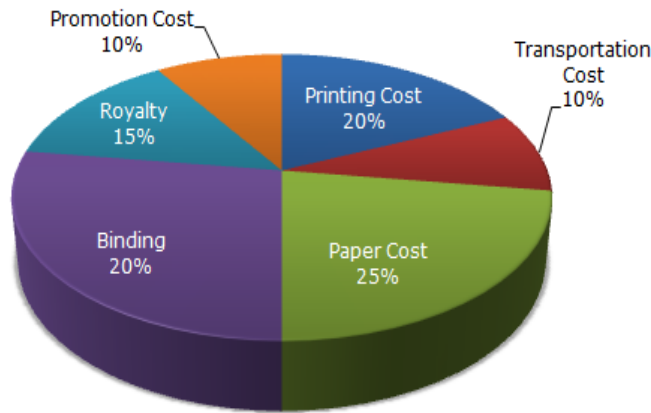
Time 3:00 hrs

Full Marks -300

2.

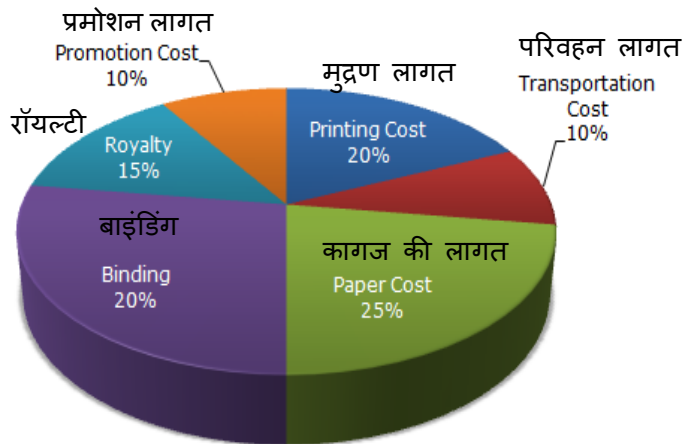
The following pie-chart shows the percentage distribution of the expenditure incurred in publishing a book. Study the pie-chart and the answer the questions based on it.

Various Expenditures (in percentage) Incurred in Publishing a Book



निम्नलिखित पाई-चार्ट एक पुस्तक के प्रकाशन में किए गए व्यय का प्रतिशत वितरण दर्शाता है। पाई-चार्ट का अध्ययन करें और उसके आधार पर प्रश्नों के उत्तर दें।

किसी पुस्तक के प्रकाशन में होने वाले विभिन्न व्यय (प्रतिशत में)।



70th BPSC MAINS TEST SERIES 100% FREE

9.

इस हाशिए में
उम्मीदवार कुछ
न लिखें।
Candidates
should not
write in
this margin.

GENERAL STUDIES-I

Time 3:00 hrs

Full Marks -300

- (a) If for a certain quantity of books, the publisher has to pay Rs. 30,600 as printing cost, then what will be amount of royalty to be paid for these books? 7

यदि पुस्तकों की एक निश्चित मात्रा के लिए, प्रकाशक को रुपये का भुगतान करना पड़ता है। मुद्रण लागत 30,600 रुपये है, तो इन पुस्तकों के लिए भुगतान की जाने वाली रॉयल्टी की राशि क्या होगी?

- (b) What is the central angle of the sector corresponding to the expenditure incurred on Royalty? 7

रॉयल्टी पर किए गए व्यय के अनुरूप सेक्टर का केंद्रीय कोण क्या है?

- (c) The price of the book is marked 20% above the C.P. If the marked price of the book is Rs. 180, then what is the cost of the paper used in a single copy of the book? 7

पुस्तक का मूल्य C.P से 20% अधिक अंकित है। यदि पुस्तक का अंकित मूल्य रु. 180 है, तो पुस्तक की एक प्रति में प्रयुक्त कागज की कीमत क्या है?

- (d) If 5500 copies are published and the transportation cost on them amounts to Rs. 82500, then what should be the selling price of the book so that the publisher can earn a profit of 25%? 7

यदि 5500 प्रतियां प्रकाशित होती हैं और उन पर परिवहन लागत रु. 82500 है, तो पुस्तक का विक्रय मूल्य क्या होना चाहिए ताकि प्रकाशक 25% का लाभ कमा सके?

- (e) Royalty on the book is less than the printing cost by: 8

पुस्तक पर रॉयल्टी मुद्रण लागत से कम है:

प्रश्नों के सामने बने सही
बॉक्स में Tick ✓
का निशान लगायें।
Mark Tick
in appropriate box
in front of
question no.

70th BPSC MAINS TEST SERIES 100% FREE

10.

प्रश्नों के सामने बने सही बॉक्स में Tick ✓ का निशान लगायें।
Mark Tick in appropriate box in front of question no.

इस हाशिए में उम्मीदवार कुछ न लिखें।
Candidates should not write in this margin.

GENERAL STUDIES-I

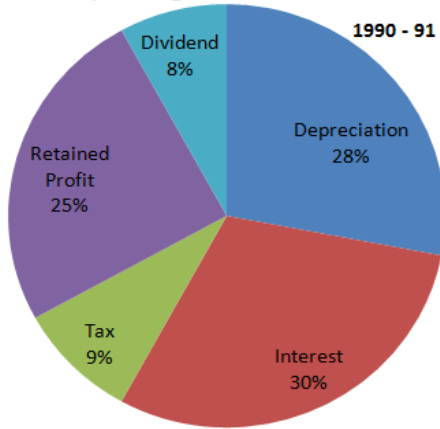
Time 3:00 hrs

Full Marks -300

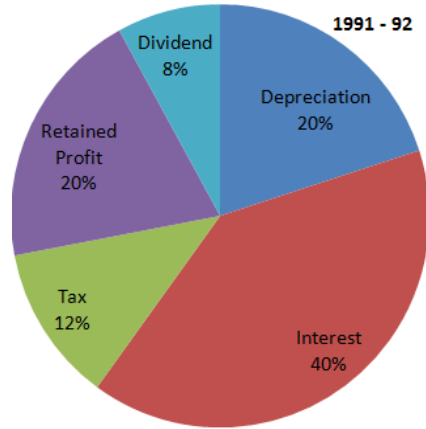
OR

Directions (a - e): Study the chart and answer the questions:

Operating Profit Rs. 130 Lakh

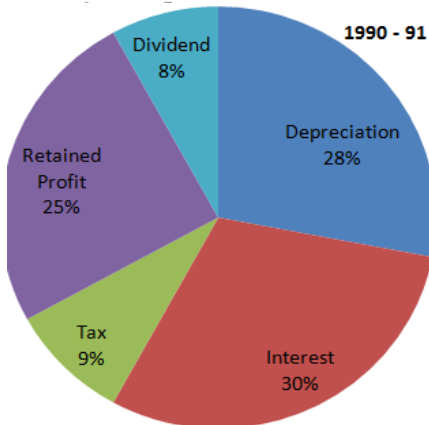


Operating Profit Rs. 160 Lakh

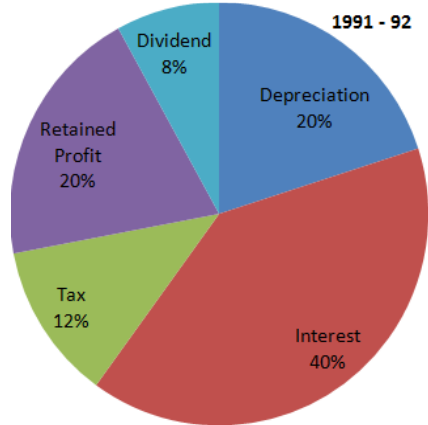


दिशानिर्देश (a - e): चार्ट का अध्ययन करें और प्रश्नों के उत्तर दें:

Operating Profit Rs. 130 Lakh



Operating Profit Rs. 160 Lakh



70th BPSC MAINS TEST SERIES 100% FREE

11.

इस हाशिए में उम्मीदवार कुछ न लिखें।
Candidates should not write in this margin.

GENERAL STUDIES-I

Time 3:00 hrs

Full Marks -300

- (a) The operating Profit in 1991-92 increased over in 1990-91 by-
1991-92 में परिचालन लाभ 1990-91 की तुलना में बढ़ गया- **7**
- (b) How much higher was the interest burden in 1991-92 as compared to 1990-91 ?
1991-92 में ब्याज का बोझ 1990-91 की तुलना में कितना अधिक था? **7**
- (c) If on an average, 20% rate of interest was charged on borrowed funds, then the total borrowed funds used by this company is the given 2 yr amounted to-
यदि उधार ली गई धनराशि पर औसतन 20% ब्याज दर ली जाती है, तो दिए गए 2 वर्षों में इस कंपनी द्वारा उपयोग की गई कुल उधार ली गई धनराशि है **7**
- (d) what was the retained profit in 1991-92, as compared to that in 1990-91 ?
1990-91 की तुलना में 1991-92 में प्रतिधारित लाभ कितना था? **7**
- (e) The equity base of those companies remained unchanged. Then, the total dividend earnings by the share holders in 1991-92 is-
उन कंपनियों का इक्विटी आधार अपरिवर्तित रहा। तो, 1991-92 में शेयर धारकों द्वारा कुल लाभांश आय है- **8**

प्रश्नों के सामने बने सही बॉक्स में Tick ✓ का निशान लगायें।
Mark Tick in appropriate box in front of question no.

70th BPSC MAINS TEST SERIES 100% FREE

12.

इस हाशिए में
उम्मीदवार कुछ
न लिखें।
Candidates
should not
write in
this margin.

प्रश्नों के सामने बने सही
बॉक्स में Tick ✓
का निशान लगायें।
Mark Tick
in appropriate box
in front of
question no.

GENERAL STUDIES-I

Time 3:00 hrs

Full Marks -300

70th BPSC MAINS TEST SERIES 100% FREE

13.

इस हाशिए में
उम्मीदवार कुछ
न लिखें।
Candidates
should not
write in
this margin.

प्रश्नों के सामने बने सही
बॉक्स में Tick ✓
का निशान लगायें।
Mark Tick
in appropriate box
in front of
question no.

GENERAL STUDIES-I

Time 3:00 hrs

Full Marks -300

70th BPSC MAINS TEST SERIES 100% FREE

14.

इस हाशिए में
उम्मीदवार कुछ
न लिखें।
Candidates
should not
write in
this margin.

प्रश्नों के सामने बने सही
बॉक्स में Tick ✓
का निशान लगायें।
Mark Tick
in appropriate box
in front of
question no.

GENERAL STUDIES-I

Time 3:00 hrs

Full Marks -300

70th BPSC MAINS TEST SERIES 100% FREE

15.

इस हाशिए में
उम्मीदवार कुछ
न लिखें।
Candidates
should not
write in
this margin.

प्रश्नों के सामने बने सही
बॉक्स में Tick ✓
का निशान लगायें।
Mark Tick
in appropriate box
in front of
question no.

GENERAL STUDIES-I

Time 3:00 hrs

Full Marks -300

70th BPSC MAINS TEST SERIES 100% FREE

16.

इस हाशिए में उम्मीदवार कुछ न लिखें।
Candidates should not write in this margin.

प्रश्नों के सामने बने सही बॉक्स में Tick ✓ का निशान लगायें।
Mark Tick in appropriate box in front of question no.

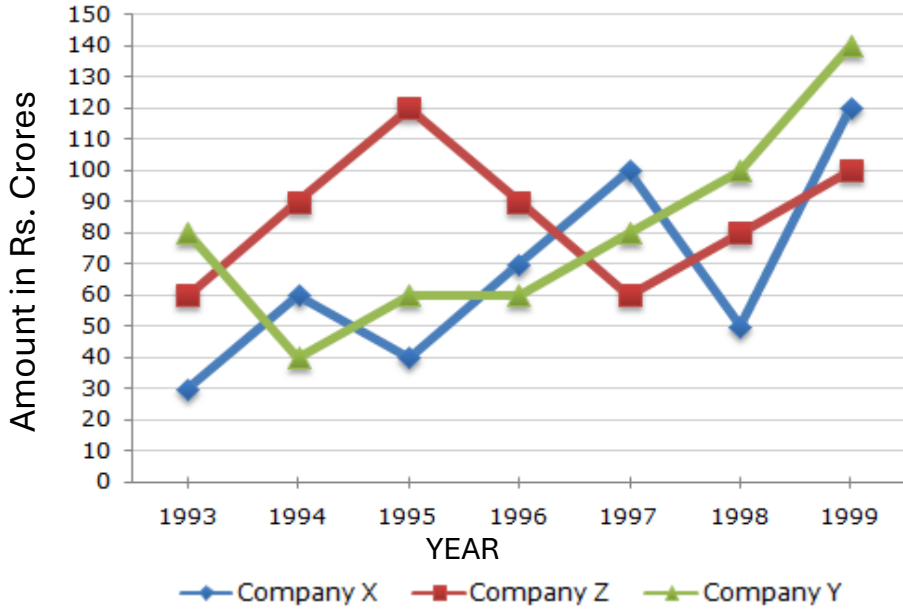
GENERAL STUDIES-I

Time 3:00 hrs

Full Marks -300

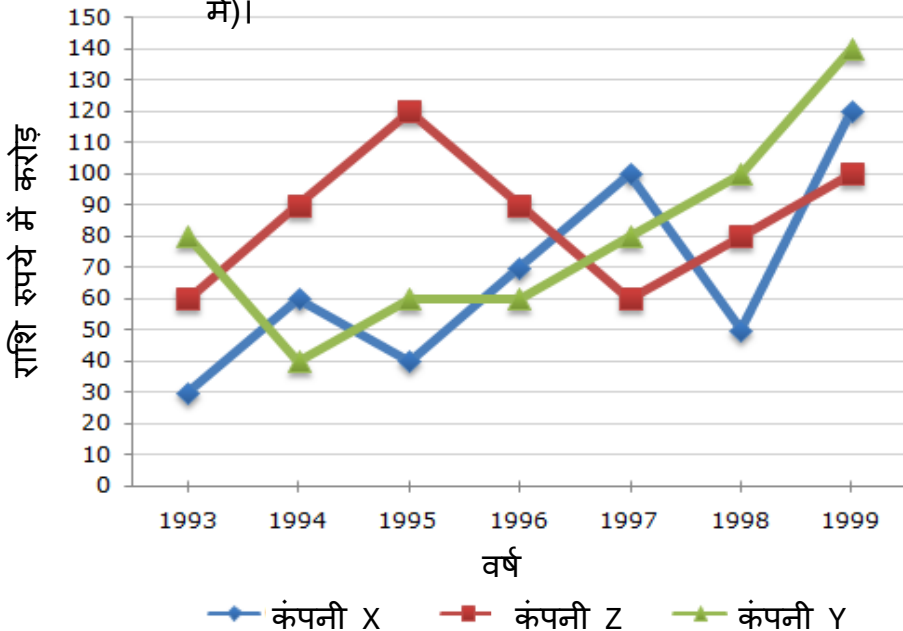
3. Study the following line graph and answer the questions.

Exports from Three Companies Over the Years (in Rs. crore)



निम्नलिखित रेखा ग्राफ का अध्ययन करें और प्रश्नों के उत्तर दें।

वर्षों में तीन कंपनियों से निर्यात (करोड़ रुपये में)।



70th BPSC MAINS TEST SERIES 100% FREE

17.

इस हाशिए में
उम्मीदवार कुछ
न लिखें।
Candidates
should not
write in
this margin.

GENERAL STUDIES-I

Time 3:00 hrs

Full Marks -300

- (a) For which of the following pairs of years the total exports from the three Companies together are equal? **8**

निम्नलिखित में से किस जोड़े के वर्षों में तीनों कंपनियों का कुल निर्यात बराबर है?

- (b) Average annual exports during the given period for Company Y is approximately what percent of the average annual exports for Company Z? **5**

कंपनी Y के लिए दी गई अवधि के दौरान औसत वार्षिक निर्यात कंपनी Z के औसत वार्षिक निर्यात का लगभग कितना प्रतिशत है?

- (c) In which year was the difference between the exports from Companies X and Y the minimum? **10**

किस वर्ष में कंपनी X और Y के निर्यात के बीच का अंतर न्यूनतम था?

- (d) What was the difference between the average exports of the three Companies in 1993 and the average exports in 1998? **8**

1993 में तीनों कंपनियों के औसत निर्यात और 1998 में औसत निर्यात के बीच क्या अंतर था?

- (e) In how many of the given years, were the exports from Company Z more than the average annual exports over the given years? **5**

दिए गए वर्षों में से कितने वर्षों में, कंपनी Z से निर्यात दिए गए वर्षों के औसत वार्षिक निर्यात से अधिक था?

प्रश्नों के सामने बने सही
बॉक्स में Tick ✓
का निशान लगायें।
Mark Tick
in appropriate box
in front of
question no.

70th BPSC MAINS TEST SERIES 100% FREE

18.

इस हाशिए में उम्मीदवार कुछ न लिखें।
Candidates should not write in this margin.

प्रश्नों के सामने बने सही बॉक्स में Tick ✓ का निशान लगायें।
Mark Tick in appropriate box in front of question no.

GENERAL STUDIES-I

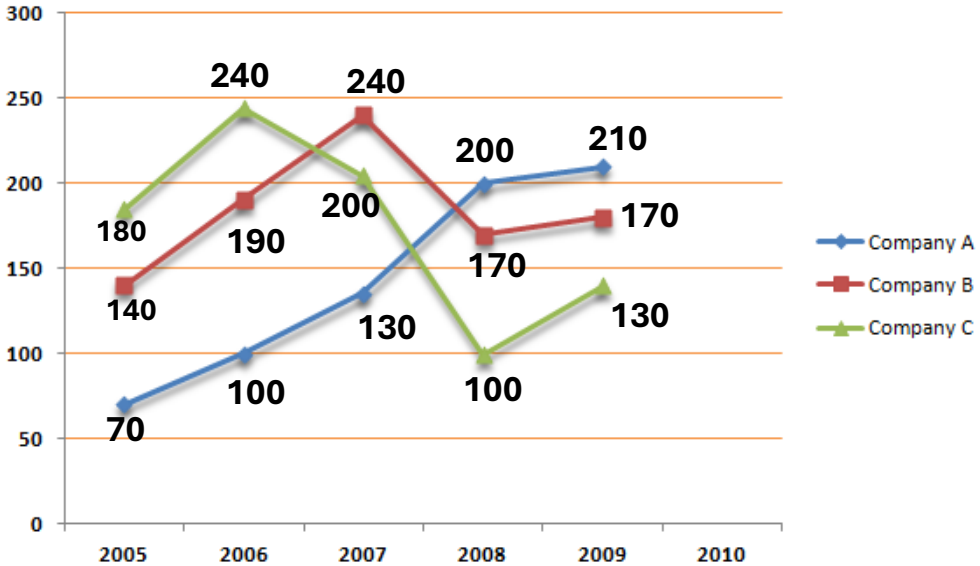
Time 3:00 hrs

Full Marks -300

OR

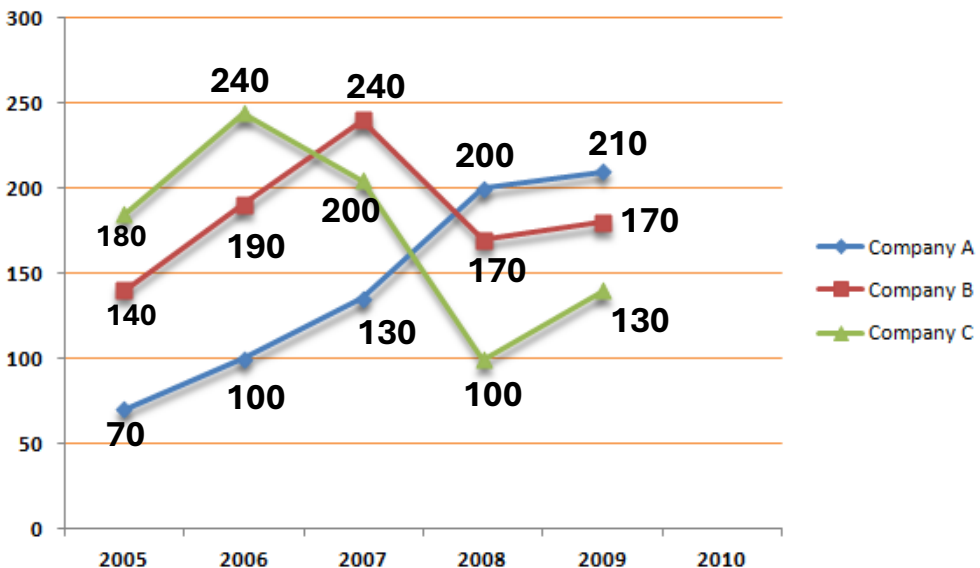
Study the following line graph and answer the questions.

Expenditure(in lakhs) of three different Company in five Different year



निम्नलिखित रेखा ग्राफ का अध्ययन करें और प्रश्नों के उत्तर दें।

पांच अलग-अलग वर्षों में तीन अलग-अलग कंपनियों का व्यय (लाख में)।



70th BPSC MAINS TEST SERIES 100% FREE

19.

इस हाशिए में
उम्मीदवार कुछ
न लिखें।
Candidates
should not
write in
this margin.

प्रश्नों के सामने बने सही
बॉक्स में Tick ✓
का निशान लगायें।
Mark Tick
in appropriate box
in front of
question no.

GENERAL STUDIES-I

Time 3:00 hrs

Full Marks -300

- (a) What was the overall average expenditure of Company C in all the years together? **5**

सभी वर्षों में कंपनी C का कुल औसत व्यय कितना था?

- (b) What was the difference between the total expenditure of company B in the year 2006 and 2008 together and the total expenditure of company C in the year 2007 and 2009 together? **8**

वर्ष 2006 और 2008 में कंपनी B के कुल व्यय और वर्ष 2007 और 2009 में कंपनी C के कुल व्यय के बीच कितना अंतर था?

- (c) What was the respective ratio between the expenditure of company A in the year 2009 and expenditure of company B in the year 2005? **10**

वर्ष 2009 में कंपनी A के व्यय और वर्ष 2005 में कंपनी B के व्यय के बीच संबंधित अनुपात क्या था?

- (d) In which year was the total expenditure by all three Companies together second highest? **5**

किस वर्ष में तीनों कंपनियों का कुल व्यय कुल मिलाकर दूसरा सबसे अधिक था?

- (e) Total expenditure of all three companies together in the year 2006 was what percentage of the total expenditure of company A overall the year together? **8**

वर्ष 2006 में तीनों कंपनियों का कुल व्यय, वर्ष भर में कंपनी A के कुल व्यय का कितना प्रतिशत था?

70th BPSC MAINS TEST SERIES 100% FREE

20.

इस हाशिए में
उम्मीदवार कुछ
न लिखें।
Candidates
should not
write in
this margin.

प्रश्नों के सामने बने सही
बॉक्स में Tick ✓
का निशान लगायें।
Mark Tick
in appropriate box
in front of
question no.

GENERAL STUDIES-I

Time 3:00 hrs

Full Marks -300

70th BPSC MAINS TEST SERIES 100% FREE

21.

इस हाशिए में
उम्मीदवार कुछ
न लिखें।
Candidates
should not
write in
this margin.

प्रश्नों के सामने बने सही
बॉक्स में Tick ✓
का निशान लगायें।
Mark Tick
in appropriate box
in front of
question no.

GENERAL STUDIES-I

Time 3:00 hrs

Full Marks -300

70th BPSC MAINS TEST SERIES 100% FREE

22.

इस हाशिए में
उम्मीदवार कुछ
न लिखें।
Candidates
should not
write in
this margin.

प्रश्नों के सामने बने सही
बॉक्स में Tick ✓
का निशान लगायें।
Mark Tick
in appropriate box
in front of
question no.

GENERAL STUDIES-I

Time 3:00 hrs

Full Marks -300

70th BPSC MAINS TEST SERIES 100% FREE

23.

इस हाशिए में
उम्मीदवार कुछ
न लिखें।
Candidates
should not
write in
this margin.

प्रश्नों के सामने बने सही
बॉक्स में Tick ✓
का निशान लगायें।
Mark Tick
in appropriate box
in front of
question no.

GENERAL STUDIES-I

Time 3:00 hrs

Full Marks -300

70th BPSC MAINS TEST SERIES 100% FREE

24.

इस हाशिए में
उम्मीदवार कुछ
न लिखें।
Candidates
should not
write in
this margin.

प्रश्नों के सामने बने सही
बॉक्स में Tick ✓
का निशान लगायें।
Mark Tick
in appropriate box
in front of
question no.

GENERAL STUDIES-I

Time 3:00 hrs

Full Marks -300

70th BPSC MAINS TEST SERIES 100% FREE

25.

इस हाशिए में
उम्मीदवार कुछ
न लिखें।
Candidates
should not
write in
this margin.

GENERAL STUDIES-I

Time 3:00 hrs

Full Marks -300

4. Study the following table and answer the questions based on it.

Expenditures of a Company (in Lakh Rupees) per Annum
Over the given Years.

| Year | Item of Expenditure | | | | |
|------|---------------------|--------------------|-------|-------------------|-------|
| | Salary | Fuel and Transport | Bonus | Interest on Loans | Taxes |
| 1998 | 288 | 98 | 3.00 | 23.4 | 83 |
| 1999 | 342 | 112 | 2.52 | 32.5 | 108 |
| 2000 | 324 | 101 | 3.84 | 41.6 | 74 |
| 2001 | 336 | 133 | 3.68 | 36.4 | 88 |
| 2002 | 420 | 142 | 3.96 | 49.4 | 98 |

निम्नलिखित तालिका का अध्ययन करें और उसके आधार पर प्रश्नों के उत्तर दें।

दिए गए वर्षों में प्रति वर्ष एक कंपनी का व्यय (लाख रुपये में)

| वर्ष | व्यय की मद | | | | |
|------|------------|----------------|------|-------------|-----|
| | वेतन | ईंधन और परिवहन | बोनस | ऋण पर ब्याज | कर |
| 1998 | 288 | 98 | 3.00 | 23.4 | 83 |
| 1999 | 342 | 112 | 2.52 | 32.5 | 108 |
| 2000 | 324 | 101 | 3.84 | 41.6 | 74 |
| 2001 | 336 | 133 | 3.68 | 36.4 | 88 |
| 2002 | 420 | 142 | 3.96 | 49.4 | 98 |

प्रश्नों के सामने बने सही
बॉक्स में Tick ✓
का निशान लगायें।
Mark Tick
in appropriate box
in front of
question no.

70th BPSC MAINS TEST SERIES 100% FREE

26.

इस हाशिए में
उम्मीदवार कुछ
न लिखें।
Candidates
should not
write in
this margin.

GENERAL STUDIES-I

Time 3:00 hrs

Full Marks -300

- (a) What is the average amount of interest per year which the company had to pay during this period? **8**

इस अवधि के दौरान कंपनी को प्रति वर्ष ब्याज की औसत राशि कितनी चुकानी पड़ी?

- (b) The total amount of bonus paid by the company during the given period is approximately what percent of the total amount of salary paid during this period? **8**

दी गई अवधि के दौरान कंपनी द्वारा भुगतान की गई बोनस की कुल राशि इस अवधि के दौरान भुगतान की गई वेतन की कुल राशि का लगभग कितना प्रतिशत है?

- (c) Total expenditure on all these items in 1998 was approximately what percent of the total expenditure in 2002? **8**

1998 में इन सभी मदों पर कुल व्यय 2002 में कुल व्यय का लगभग कितना प्रतिशत था?

- (d) The total expenditure of the company over these items during the year 2000 is? **6**

वर्ष 2000 के दौरान इन मदों पर कंपनी का कुल व्यय कितना है?

- (e) The ratio between the total expenditure on Taxes for all the years and the total expenditure on Fuel and Transport for all the years respectively is approximately? **6**

सभी वर्षों के लिए करों पर कुल व्यय और सभी वर्षों के लिए ईंधन और परिवहन पर कुल व्यय के बीच अनुपात क्रमशः लगभग कितना है?

प्रश्नों के सामने बने सही
बॉक्स में Tick ✓
का निशान लगायें।
Mark Tick
in appropriate box
in front of
question no.

70th BPSC MAINS TEST SERIES 100% FREE

27.

इस हाशिए में
उम्मीदवार कुछ
न लिखें।
Candidates
should not
write in
this margin.

प्रश्नों के सामने बने सही
बॉक्स में Tick ✓
का निशान लगायें।
Mark Tick
in appropriate box
in front of
question no.

GENERAL STUDIES-I

Time 3:00 hrs

Full Marks -300

70th BPSC MAINS TEST SERIES 100% FREE

28.

इस हाशिए में
उम्मीदवार कुछ
न लिखें।
Candidates
should not
write in
this margin.

प्रश्नों के सामने बने सही
बॉक्स में Tick ✓
का निशान लगायें।
Mark Tick
in appropriate box
in front of
question no.

GENERAL STUDIES-I

Time 3:00 hrs

Full Marks -300

70th BPSC MAINS TEST SERIES 100% FREE

29.

इस हाशिए में
उम्मीदवार कुछ
न लिखें।
Candidates
should not
write in
this margin.

प्रश्नों के सामने बने सही
बॉक्स में Tick ✓
का निशान लगायें।
Mark Tick
in appropriate box
in front of
question no.

GENERAL STUDIES-I

Time 3:00 hrs

Full Marks -300

70th BPSC MAINS TEST SERIES 100% FREE

30.

इस हाशिए में
उम्मीदवार कुछ
न लिखें।
Candidates
should not
write in
this margin.

प्रश्नों के सामने बने सही
बॉक्स में Tick ✓
का निशान लगायें।
Mark Tick
in appropriate box
in front of
question no.

GENERAL STUDIES-I

Time 3:00 hrs

Full Marks -300

70th BPSC MAINS TEST SERIES 100% FREE

31.

प्रश्नों के सामने बने सही बॉक्स में Tick ✓ का निशान लगायें। Mark Tick in appropriate box in front of question no.

इस हाशिए में उम्मीदवार कुछ न लिखें। Candidates should not write in this margin.

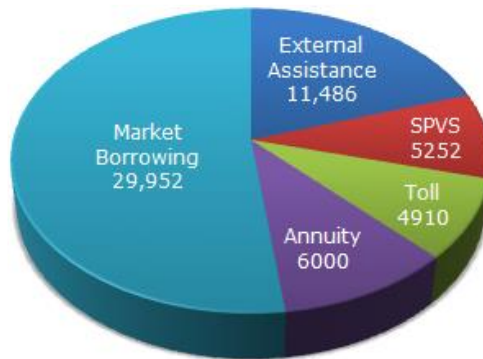
GENERAL STUDIES-I

Time 3:00 hrs

Full Marks -300

5. The following pie-chart shows the sources of funds to be collected by the National Highways Authority of India (NHAI) for its Phase II projects. Study the pie-chart and answers the question that follow.

Sources of funds to be arranged by NHAI for Phase II projects (in crores Rs.)



निम्नलिखित पाई-चार्ट भारतीय राष्ट्रीय राजमार्ग प्राधिकरण (एनएचएआई) द्वारा अपने चरण II परियोजनाओं के लिए एकत्र किए जाने वाले धन के स्रोतों को दर्शाता है। पाई-चार्ट का अध्ययन करें और निम्नलिखित प्रश्न का उत्तर दें।

चरण II परियोजनाओं के लिए एनएचएआई द्वारा व्यवस्थित किए जाने वाले धन के स्रोत (करोड़ रुपये में)



70th BPSC MAINS TEST SERIES 100% FREE

32.

इस हाशिए में उम्मीदवार कुछ न लिखें।
Candidates should not write in this margin.

प्रश्नों के सामने बने सही बॉक्स में Tick ✓ का निशान लगायें।
Mark Tick in appropriate box in front of question no.

GENERAL STUDIES-I

Time 3:00 hrs

Full Marks -300

- (a) About 20% of the funds are to be raised through which of the following medium 7

निम्नलिखित में से किस मध्यम से लगभग 20% की धनराशि की जानी है

- (b) If NHAI could receive a total of Rs. 9695 crores as External Assistance, by what percent (approximately) should it increase the Market Borrowing to arrange for the shortage of funds? 8

यदि NHAI को कुल रु. प्राप्त हो सके. बाहरी सहायता के रूप में 9695 करोड़ रुपये की धनराशि की कमी की व्यवस्था करने के लिए बाजार उधार को कितने प्रतिशत (लगभग) बढ़ाना चाहिए?

- (c) If the toll is to be collected through an outsourced agency by allowing a maximum 10% commission, how much amount should be permitted to be collected by the outsourced agency, so that the project is supported with Rs. 4910 crores? 7

यदि अधिकतम 10% कमीशन की अनुमति देकर आउटसोर्स एजेंसी के माध्यम से टोल एकत्र किया जाना है, तो आउटसोर्स एजेंसी द्वारा कितनी राशि एकत्र करने की अनुमति दी जानी चाहिए, ताकि परियोजना को 4910 करोड़ रुपये का समर्थन प्राप्त हो?

- (d) The central angle corresponding to Market Borrowing is- 7

बाजार उधार के अनुरूप केंद्रीय कोण है

- (e) The approximate ratio of the funds to be arranged through Toll and that through Market Borrowing is- 7

टोल के माध्यम से और बाजार उधार के माध्यम से व्यवस्थित की जाने वाली धनराशि का अनुमानित अनुपात है

70th BPSC MAINS TEST SERIES 100% FREE

33.

इस हाशिए में उम्मीदवार कुछ न लिखें।
Candidates should not write in this margin.

प्रश्नों के सामने बने सही बॉक्स में Tick ✓ का निशान लगायें।
Mark Tick in appropriate box in front of question no.

GENERAL STUDIES-I

Time 3:00 hrs

Full Marks -300

OR

The following table gives the percentage of marks obtained by seven students in six different subjects in an examination.

निम्नलिखित तालिका एक परीक्षा में छह अलग-अलग विषयों में सात छात्रों द्वारा प्राप्त अंकों का प्रतिशत देती है।

The Numbers in the Brackets give the Maximum Marks in Each Subject.

कोष्ठक में दिए गए अंक प्रत्येक विषय में अधिकतम अंक देते हैं

| Student | Subject (Max. Marks) | | | | | |
|---------|----------------------|-----------|---------|-----------|---------|------------------|
| | Maths | Chemistry | Physics | Geography | History | Computer Science |
| | (150) | (130) | (120) | (100) | (60) | (40) |
| Ayush | 90 | 50 | 90 | 60 | 70 | 80 |
| Aman | 100 | 80 | 80 | 40 | 80 | 70 |
| Sajal | 90 | 60 | 70 | 70 | 90 | 70 |
| Rohit | 80 | 65 | 80 | 80 | 60 | 60 |
| Muskan | 80 | 65 | 85 | 95 | 50 | 90 |
| Tanvi | 70 | 75 | 65 | 85 | 40 | 60 |
| Tarun | 65 | 35 | 50 | 77 | 80 | 80 |

70th BPSC MAINS TEST SERIES 100% FREE

34.

इस हाशिए में
उम्मीदवार कुछ
न लिखें।
Candidates
should not
write in
this margin.

GENERAL STUDIES-I

Time 3:00 hrs

Full Marks -300

- (a) What are the average marks obtained by all the seven students in Physics? (rounded off to two digit after decimal) 7

भौतिकी में सभी सात छात्रों द्वारा प्राप्त औसत अंक क्या हैं? (दशमलव के बाद दो अंकों तक पूर्णांकित)

- (b) The number of students who obtained 60% and above marks in all subjects is? 7

सभी विषयों में 60% और उससे अधिक अंक प्राप्त करने वाले छात्रों की संख्या कितनी है?

- (c) What was the aggregate of marks obtained by Sajal in all the six subjects? 7

सजल द्वारा सभी छह विषयों में प्राप्त अंकों का कुल योग क्या था?

- (d) In which subject is the overall percentage the best? 8

किस विषय में कुल प्रतिशत सबसे अच्छा है?

- (e) What is the overall percentage of Tarun? 7

तरुण का कुल प्रतिशत कितना है?

प्रश्नों के सामने बने सही
बॉक्स में Tick ✓
का निशान लगायें।
Mark Tick
in appropriate box
in front of
question no.

70th BPSC MAINS TEST SERIES 100% FREE

35.

इस हाशिए में
उम्मीदवार कुछ
न लिखें।
Candidates
should not
write in
this margin.

प्रश्नों के सामने बने सही
बॉक्स में Tick ✓
का निशान लगायें।
Mark Tick
in appropriate box
in front of
question no.

GENERAL STUDIES-I

Time 3:00 hrs

Full Marks -300

70th BPSC MAINS TEST SERIES 100% FREE

36.

इस हाशिए में
उम्मीदवार कुछ
न लिखें।
Candidates
should not
write in
this margin.

प्रश्नों के सामने बने सही
बॉक्स में Tick ✓
का निशान लगायें।
Mark Tick
in appropriate box
in front of
question no.

GENERAL STUDIES-I

Time 3:00 hrs

Full Marks -300

70th BPSC MAINS TEST SERIES 100% FREE

37.

इस हाशिए में
उम्मीदवार कुछ
न लिखें।
Candidates
should not
write in
this margin.

प्रश्नों के सामने बने सही
बॉक्स में Tick ✓
का निशान लगायें।
Mark Tick
in appropriate box
in front of
question no.

GENERAL STUDIES-I

Time 3:00 hrs

Full Marks -300

70th BPSC MAINS TEST SERIES 100% FREE

38.

इस हाशिए में
उम्मीदवार कुछ
न लिखें।
Candidates
should not
write in
this margin.

प्रश्नों के सामने बने सही
बॉक्स में Tick ✓
का निशान लगायें।
Mark Tick
in appropriate box
in front of
question no.

GENERAL STUDIES-I

Time 3:00 hrs

Full Marks -300

70th BPSC MAINS TEST SERIES 100% FREE

39.

इस हाशिए में
उम्मीदवार कुछ
न लिखें।
Candidates
should not
write in
this margin.

प्रश्नों के सामने बने सही
बॉक्स में Tick ✓
का निशान लगायें।
Mark Tick
in appropriate box
in front of
question no.

GENERAL STUDIES-I

Time 3:00 hrs

Full Marks -300

70th BPSC MAINS TEST SERIES 100% FREE

40.

इस हाशिए में उम्मीदवार कुछ न लिखें।
Candidates should not write in this margin.

प्रश्नों के सामने बने सही बॉक्स में Tick ✓ का निशान लगायें।
Mark Tick in appropriate box in front of question no.

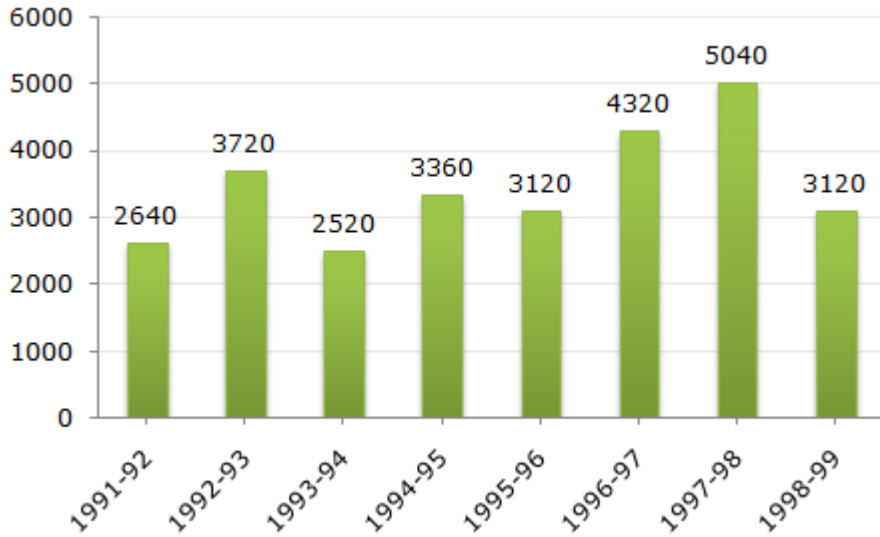
GENERAL STUDIES-I

Time 3:00 hrs

Full Marks -300

6. The bar graph given below shows the foreign exchange reserves of a country (in million US \$) from 1991 - 1992 to 1998 - 1999.

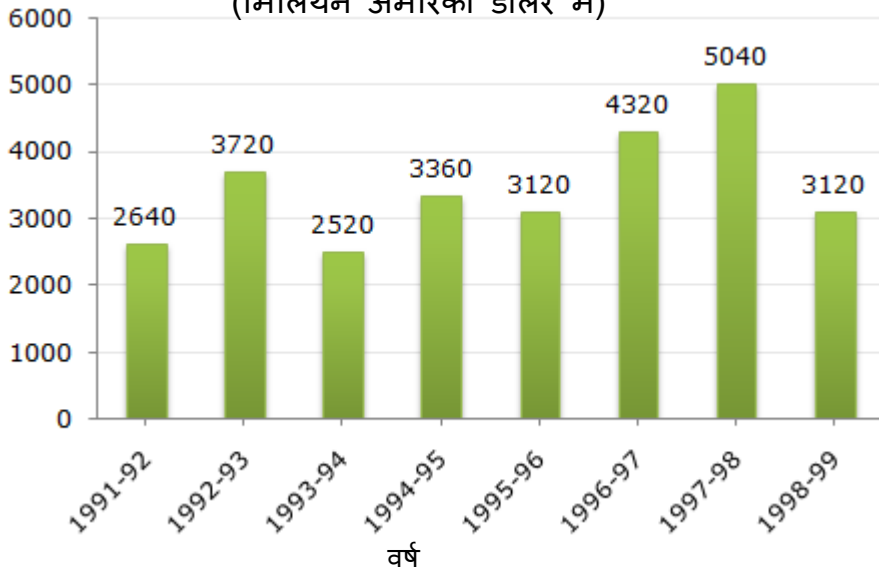
Foreign Exchange Reserves Of a Country. (in million US \$)



नीचे दिया गया बार ग्राफ 1991-1992 से 1998-1999 तक किसी देश के विदेशी मुद्रा भंडार (मिलियन अमेरिकी डॉलर में) को दर्शाता है।

विदेशी मुद्रा भंडार: (मिलियन अमेरिकी डॉलर में)

किसी देश का विदेशी मुद्रा भंडार.
(मिलियन अमेरिकी डॉलर में)



70th BPSC MAINS TEST SERIES 100% FREE

41.

इस हाशिए में उम्मीदवार कुछ न लिखें।
Candidates should not write in this margin.

प्रश्नों के सामने बने सही बॉक्स में Tick ✓ का निशान लगायें।
Mark Tick in appropriate box in front of question no.

GENERAL STUDIES-I

Time 3:00 hrs

Full Marks -300

- (a) The ratio of the number of years, in which the foreign exchange reserves are above the average reserves, to those in which the reserves are below the average reserves is? **8**

उन वर्षों की संख्या का अनुपात, जिनमें विदेशी मुद्रा भंडार औसत भंडार से ऊपर है, उन वर्षों से जिनमें विदेशी मुद्रा भंडार औसत भंडार से नीचे है?

- (b) The foreign exchange reserves in 1997-98 was how many times that in 1994-95? **8**

1997-98 में विदेशी मुद्रा भंडार 1994-95 की तुलना में कितना गुना था?

- (c) For which year, the percent increase of foreign exchange reserves over the previous year, is the highest? **8**

पिछले वर्ष की तुलना में किस वर्ष में विदेशी मुद्रा भंडार की प्रतिशत वृद्धि सबसे अधिक है?

- (d) The foreign exchange reserves in 1996-97 were approximately what percent of the average foreign exchange reserves over the period under review? **6**

1996-97 में विदेशी मुद्रा भंडार समीक्षाधीन अवधि में औसत विदेशी मुद्रा भंडार का लगभग कितना प्रतिशत था?

- (e) What was the percentage increase in the foreign exchange reserves in 1997-98 over 1993-94? **6**

1993-94 की तुलना में 1997-98 में विदेशी मुद्रा भंडार में कितने प्रतिशत की वृद्धि हुई?

70th BPSC MAINS TEST SERIES 100% FREE

42.

इस हाशिए में उम्मीदवार कुछ न लिखें।
Candidates should not write in this margin.

प्रश्नों के सामने बने सही बॉक्स में Tick ✓ का निशान लगायें।
Mark Tick in appropriate box in front of question no.

GENERAL STUDIES-I

Time 3:00 hrs

Full Marks -300

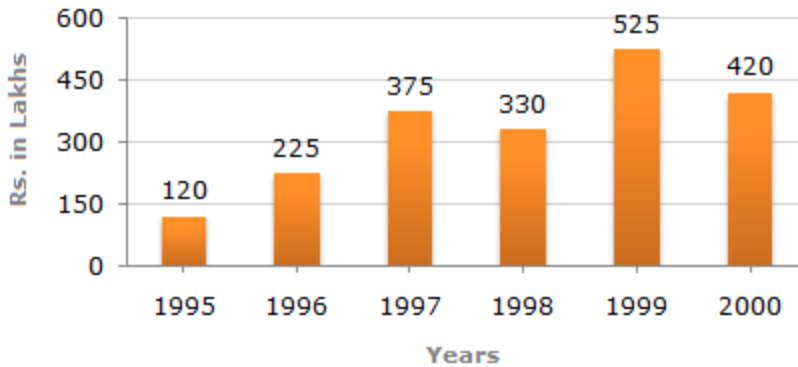
OR

Out of the two bar graphs provided below, one shows the amounts (in Lakh Rs.) invested by a Company in purchasing raw materials over the years and the other shows the values (in Lakh Rs.) of finished goods sold by the Company over the years.

नीचे दिए गए दो बार ग्राफ में से, एक कंपनी द्वारा पिछले कुछ वर्षों में कच्चे माल की खरीद में निवेश की गई राशि (लाख रुपये में) को दर्शाता है और दूसरा पिछले कुछ वर्षों में कंपनी द्वारा बेचे गए तैयार माल के मूल्य (लाख रुपये में) को दर्शाता है।

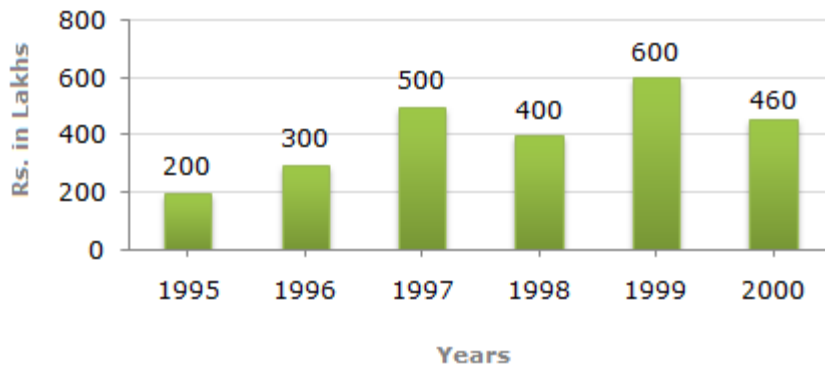
Amount invested in Raw Materials (Rs. in Lakhs)

कच्चे माल में निवेश की गई राशि (लाख रुपये में)



Value of Sales of Finished Goods (Rs. in Lakhs)

तैयार माल की बिक्री का मूल्य (लाख रुपये में)



70th BPSC MAINS TEST SERIES 100% FREE

43.

इस हाशिए में
उम्मीदवार कुछ
न लिखें।
Candidates
should not
write in
this margin.

GENERAL STUDIES-I

Time 3:00 hrs

Full Marks -300

- (a) The maximum difference between the amount invested in Raw materials and value of sales of finished goods was during the year? **8**

वर्ष के दौरान कच्चे माल में निवेश की गई राशि और तैयार माल की बिक्री के मूल्य के बीच अधिकतम अंतर था?

- (b) The value of sales of finished goods in 1999 was approximately what percent of the sum of amount invested in Raw materials in the years 1997, 1998 and 1999? **6**

1999 में तैयार माल की बिक्री का मूल्य वर्ष 1997, 1998 और 1999 में कच्चे माल में निवेश की गई राशि का लगभग कितना प्रतिशत था?

- (c) What was the difference between the average amount invested in Raw materials during the given period and the average value of sales of finished goods during this period? **8**

दी गई अवधि के दौरान कच्चे माल में निवेश की गई औसत राशि और इस अवधि के दौरान तैयार माल की बिक्री के औसत मूल्य के बीच क्या अंतर था?

- (d) In which year, the percentage change (compared to the previous year) in the investment on Raw materials is same as that in the value of sales of finished goods? **8**

किस वर्ष में, कच्चे माल पर निवेश में प्रतिशत परिवर्तन (पिछले वर्ष की तुलना में) तैयार माल की बिक्री के मूल्य के समान है?

- (e) In which year, there has been a maximum percentage increase in the amount invested in Raw materials as compared to the previous year? **6**

पिछले वर्ष की तुलना में किस वर्ष में कच्चे माल में निवेश की गई राशि में अधिकतम प्रतिशत वृद्धि हुई है?

प्रश्नों के सामने बने सही
बॉक्स में Tick ✓
का निशान लगायें।
Mark Tick
in appropriate box
in front of
question no.

70th BPSC MAINS TEST SERIES 100% FREE

44.

इस हाशिए में
उम्मीदवार कुछ
न लिखें।
Candidates
should not
write in
this margin.

प्रश्नों के सामने बने सही
बॉक्स में Tick ✓
का निशान लगायें।
Mark Tick
in appropriate box
in front of
question no.

GENERAL STUDIES-I

Time 3:00 hrs

Full Marks -300

70th BPSC MAINS TEST SERIES 100% FREE

45.

इस हाशिए में
उम्मीदवार कुछ
न लिखें।
Candidates
should not
write in
this margin.

प्रश्नों के सामने बने सही
बॉक्स में Tick ✓
का निशान लगायें।
Mark Tick
in appropriate box
in front of
question no.

GENERAL STUDIES-I

Time 3:00 hrs

Full Marks -300

70th BPSC MAINS TEST SERIES 100% FREE

46.

इस हाशिए में
उम्मीदवार कुछ
न लिखें।
Candidates
should not
write in
this margin.

प्रश्नों के सामने बने सही
बॉक्स में Tick ✓
का निशान लगायें।
Mark Tick
in appropriate box
in front of
question no.

GENERAL STUDIES-I

Time 3:00 hrs

Full Marks -300

70th BPSC MAINS TEST SERIES 100% FREE

47.

इस हाशिए में
उम्मीदवार कुछ
न लिखें।
Candidates
should not
write in
this margin.

प्रश्नों के सामने बने सही
बॉक्स में Tick ✓
का निशान लगायें।
Mark Tick
in appropriate box
in front of
question no.

GENERAL STUDIES-I

Time 3:00 hrs

Full Marks -300

70th BPSC MAINS TEST SERIES 100% FREE

48.

इस हाशिए में
उम्मीदवार कुछ
न लिखें।
Candidates
should not
write in
this margin.

प्रश्नों के सामने बने सही
बॉक्स में Tick ✓
का निशान लगायें।
Mark Tick
in appropriate box
in front of
question no.

GENERAL STUDIES-I

Time 3:00 hrs

Full Marks -300

70th BPSC MAINS TEST SERIES 100% FREE

49.

इस हाशिए में उम्मीदवार कुछ न लिखें।
Candidates should not write in this margin.

प्रश्नों के सामने बने सही बॉक्स में Tick ✓ का निशान लगायें।
Mark Tick in appropriate box in front of question no.

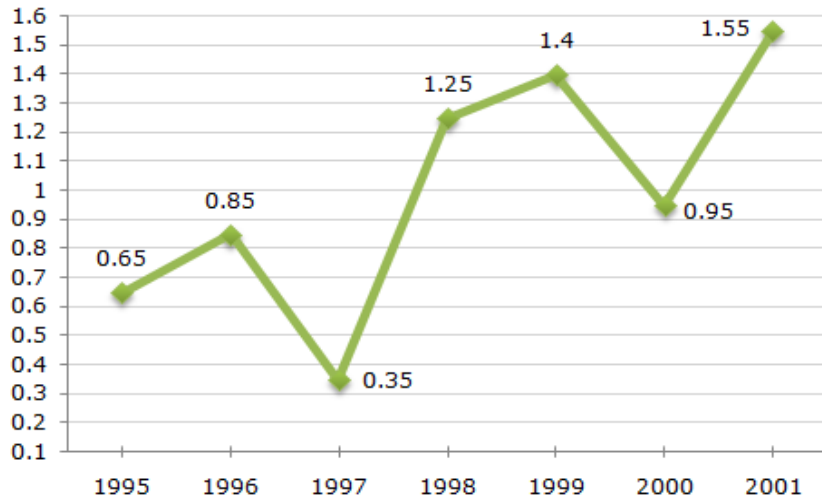
GENERAL STUDIES-I

Time 3:00 hrs

Full Marks -300

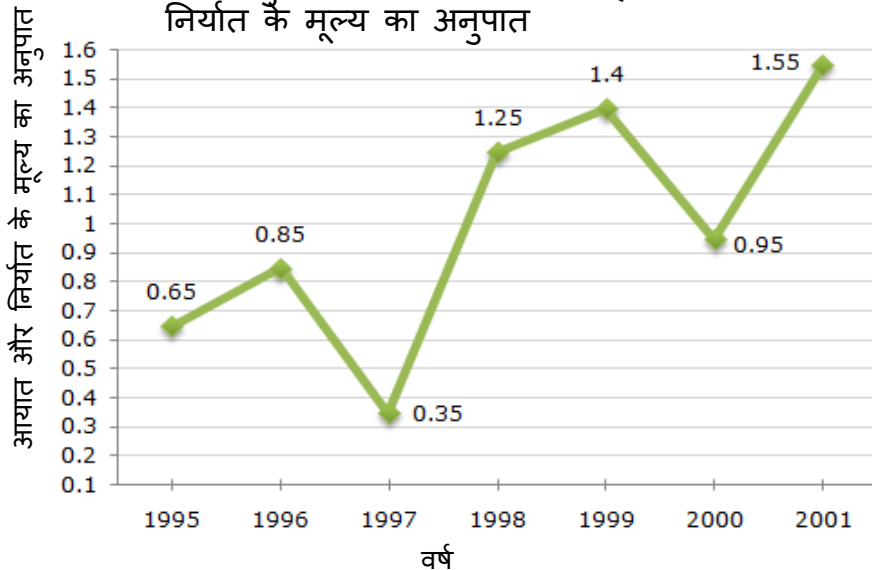
7. The following line graph gives the ratio of the amounts of imports by a company to the amount of exports from that company over the period from 1995 to 2001.

Ratio of Value of Imports to Exports by a Company Over the Years.



निम्नलिखित लाइन ग्राफ 1995 से 2001 की अवधि के दौरान किसी कंपनी द्वारा आयात की मात्रा और उस कंपनी से निर्यात की मात्रा का अनुपात दिखाता है।

पिछले कुछ वर्षों में किसी कंपनी द्वारा आयात और निर्यात के मूल्य का अनुपात



70th BPSC MAINS TEST SERIES 100% FREE

50.

इस हाशिए में उम्मीदवार कुछ न लिखें।
Candidates should not write in this margin.

प्रश्नों के सामने बने सही बॉक्स में Tick ✓ का निशान लगायें।
Mark Tick in appropriate box in front of question no.

GENERAL STUDIES-I

Time 3:00 hrs

Full Marks -300

- (a) If the imports in 1998 was Rs. 250 crores and the total exports in the years 1998 and 1999 together was Rs. 500 crores, then the imports in 1999 was ? **10**

यदि 1998 में आयात रु. 250 करोड़ और वर्ष 1998 और 1999 में कुल निर्यात रु. 500 करोड़, तो 1999 में आयात था?

- (b) The imports were minimum proportionate to the exports of the company in the year ? **5**

वर्ष में कंपनी के निर्यात के अनुपात में आयात न्यूनतम था?

- (c) What was the percentage increase in imports from 1997 to 1998 ? **8**

1997 से 1998 तक आयात में कितने प्रतिशत की वृद्धि हुई?

- (d) If the imports of the company in 1996 was Rs. 272 crores, the exports from the company in 1996 was ? **5**

यदि 1996 में कंपनी का आयात रु. 272 करोड़ रुपये था?

- (e) In how many of the given years were the exports more than the imports ? **8**

दिए गए वर्षों में से कितने वर्षों में निर्यात आयात से अधिक था?

70th BPSC MAINS TEST SERIES 100% FREE

51.

इस हाशिए में
उम्मीदवार कुछ
न लिखें।
Candidates
should not
write in
this margin.

प्रश्नों के सामने बने सही
बॉक्स में Tick ✓
का निशान लगायें।
Mark Tick
in appropriate box
in front of
question no.

GENERAL STUDIES-I

Time 3:00 hrs

Full Marks -300

70th BPSC MAINS TEST SERIES 100% FREE

52.

इस हाशिए में
उम्मीदवार कुछ
न लिखें।
Candidates
should not
write in
this margin.

प्रश्नों के सामने बने सही
बॉक्स में Tick ✓
का निशान लगायें।
Mark Tick
in appropriate box
in front of
question no.

GENERAL STUDIES-I

Time 3:00 hrs

Full Marks -300

70th BPSC MAINS TEST SERIES 100% FREE

53.

इस हाशिए में
उम्मीदवार कुछ
न लिखें।
Candidates
should not
write in
this margin.

प्रश्नों के सामने बने सही
बॉक्स में Tick ✓
का निशान लगायें।
Mark Tick
in appropriate box
in front of
question no.

GENERAL STUDIES-I

Time 3:00 hrs

Full Marks -300

70th BPSC MAINS TEST SERIES 100% FREE

54.

इस हाशिए में
उम्मीदवार कुछ
न लिखें।
Candidates
should not
write in
this margin.

GENERAL STUDIES-I

Time 3:00 hrs

Full Marks -300

8. Study the following table and answer the questions.

Number of Candidates Appeared and Qualified in a Competitive Examination from Different States Over the Years.

| State | Year | | | | | | | | | |
|-------|------|-------|------|-------|------|-------|------|-------|------|-------|
| | 1997 | | 1998 | | 1999 | | 2000 | | 2001 | |
| | App. | Qual. | App. | Qual. | App. | Qual. | App. | Qual. | App. | Qual. |
| M | 5200 | 720 | 8500 | 980 | 7400 | 850 | 6800 | 775 | 9500 | 1125 |
| N | 7500 | 840 | 9200 | 1050 | 8450 | 920 | 9200 | 980 | 8800 | 1020 |
| P | 6400 | 780 | 8800 | 1020 | 7800 | 890 | 8750 | 1010 | 9750 | 1250 |
| Q | 8100 | 950 | 9500 | 1240 | 8700 | 980 | 9700 | 1200 | 8950 | 995 |
| R | 7800 | 870 | 7600 | 940 | 9800 | 1350 | 7600 | 945 | 7990 | 885 |

निम्नलिखित तालिका का अध्ययन करें और प्रश्नों के उत्तर दें

पिछले कुछ वर्षों में विभिन्न राज्यों से एक प्रतियोगी परीक्षा में उपस्थित होने वाले और उत्तीर्ण होने वाले उम्मीदवारों की संख्या

| राज्य | वर्ष | | | | | | | | | |
|-------|------|-------|------|-------|------|-------|------|-------|------|-------|
| | 1997 | | 1998 | | 1999 | | 2000 | | 2001 | |
| | App. | Qual. | App. | Qual. | App. | Qual. | App. | Qual. | App. | Qual. |
| M | 5200 | 720 | 8500 | 980 | 7400 | 850 | 6800 | 775 | 9500 | 1125 |
| N | 7500 | 840 | 9200 | 1050 | 8450 | 920 | 9200 | 980 | 8800 | 1020 |
| P | 6400 | 780 | 8800 | 1020 | 7800 | 890 | 8750 | 1010 | 9750 | 1250 |
| Q | 8100 | 950 | 9500 | 1240 | 8700 | 980 | 9700 | 1200 | 8950 | 995 |
| R | 7800 | 870 | 7600 | 940 | 9800 | 1350 | 7600 | 945 | 7990 | 885 |

70th BPSC MAINS TEST SERIES 100% FREE

55.

इस हाशिए में उम्मीदवार कुछ न लिखें।
Candidates should not write in this margin.

प्रश्नों के सामने बने सही बॉक्स में Tick ✓ का निशान लगायें।
Mark Tick in appropriate box in front of question no.

GENERAL STUDIES-I

Time 3:00 hrs

Full Marks -300

- (a) Total number of candidates qualified from all the states together in 1997 is approximately what percentage of the total number of candidates qualified from all the states together in 1998? **8**

1997 में सभी राज्यों से उत्तीर्ण उम्मीदवारों की कुल संख्या, 1998 में सभी राज्यों से उत्तीर्ण उम्मीदवारों की कुल संख्या का लगभग कितना प्रतिशत है?

- (b) What is the average candidates who appeared from State Q during the given years? **6**

दिए गए वर्षों के दौरान राज्य Q से उपस्थित होने वाले उम्मीदवारों का औसत क्या है?

- (c) In which of the given years the number of candidates appeared from State P has maximum percentage of qualified candidates? **8**

दिए गए वर्षों में से किस वर्ष में राज्य P से उपस्थित होने वाले उम्मीदवारों की संख्या में योग्य उम्मीदवारों का प्रतिशत अधिकतम है?

- (d) What is the percentage of candidates qualified from State N for all the years together, over the candidates appeared from State N during all the years together? **6**

सभी वर्षों के दौरान राज्य N से उत्तीर्ण होने वाले उम्मीदवारों की संख्या, सभी वर्षों के दौरान राज्य N से उत्तीर्ण होने वाले उम्मीदवारों की तुलना में कितना प्रतिशत है?

- (e) The percentage of total number of qualified candidates to the total number of appeared candidates among all the five states in 1999 is? **8**

1999 में सभी पांच राज्यों में उपस्थित उम्मीदवारों की कुल संख्या में योग्य उम्मीदवारों की कुल संख्या का प्रतिशत क्या है?

70th BPSC MAINS TEST SERIES 100% FREE

56.

इस हाशिए में
उम्मीदवार कुछ
न लिखें।
Candidates
should not
write in
this margin.

प्रश्नों के सामने बने सही
बॉक्स में Tick ✓
का निशान लगायें।
Mark Tick
in appropriate box
in front of
question no.

GENERAL STUDIES-I

Time 3:00 hrs

Full Marks -300

70th BPSC MAINS TEST SERIES 100% FREE

57.

इस हाशिए में
उम्मीदवार कुछ
न लिखें।
Candidates
should not
write in
this margin.

प्रश्नों के सामने बने सही
बॉक्स में Tick ✓
का निशान लगायें।
Mark Tick
in appropriate box
in front of
question no.

GENERAL STUDIES-I

Time 3:00 hrs

Full Marks -300

70th BPSC MAINS TEST SERIES 100% FREE

58.

इस हाशिए में
उम्मीदवार कुछ
न लिखें।
Candidates
should not
write in
this margin.

प्रश्नों के सामने बने सही
बॉक्स में Tick ✓
का निशान लगायें।
Mark Tick
in appropriate box
in front of
question no.

GENERAL STUDIES-I

Time 3:00 hrs

Full Marks -300

70th BPSC MAINS TEST SERIES 100% FREE

59.

इस हाशिए में
उम्मीदवार कुछ
न लिखें।
Candidates
should not
write in
this margin.

प्रश्नों के सामने बने सही
बॉक्स में Tick ✓
का निशान लगायें।
Mark Tick
in appropriate box
in front of
question no.

GENERAL STUDIES-I

Time 3:00 hrs

Full Marks -300

70th BPSC MAINS TEST SERIES 100% FREE

60.

इस हाशिए में उम्मीदवार कुछ न लिखें।
Candidates should not write in this margin.

प्रश्नों के सामने बने सही बॉक्स में Tick ✓ का निशान लगायें।
Mark Tick in appropriate box in front of question no.

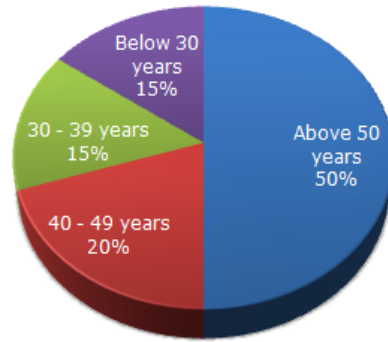
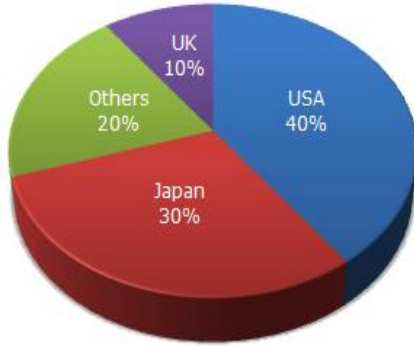
GENERAL STUDIES-I

Time 3:00 hrs

Full Marks -300

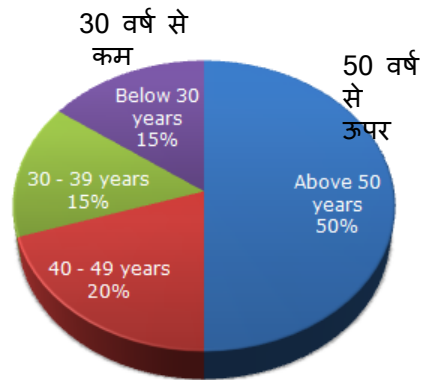
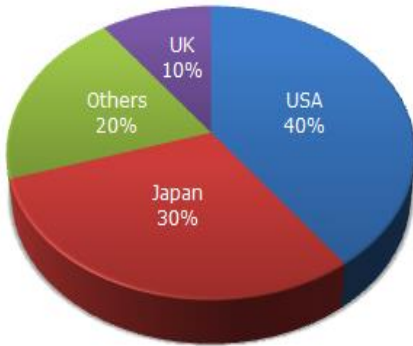
9. The following pie charts exhibit the distribution of the overseas tourist traffic from India. The two charts shows the tourist distribution by country and the age profiles of the tourists respectively.

Distribution of Overseas Tourist Traffic from India



सभी वर्षों के लिए करों पर कुल व्यय और सभी वर्षों के लिए ईंधन और परिवहन पर कुल व्यय के बीच अनुपात क्रमशः लगभग कितना है?

भारत से विदेशी पर्यटक यातायात का वितरण



70th BPSC MAINS TEST SERIES 100% FREE

61.

इस हाशिए में उम्मीदवार कुछ न लिखें।
Candidates should not write in this margin.

प्रश्नों के सामने बने सही बॉक्स में Tick ✓ का निशान लगायें।
Mark Tick in appropriate box in front of question no.

GENERAL STUDIES-I

Time 3:00 hrs

Full Marks -300

- (a) What percentage of Indian tourist went to either USA or UK ? **6**

कितने प्रतिशत भारतीय पर्यटक अमेरिका या ब्रिटेन गए?

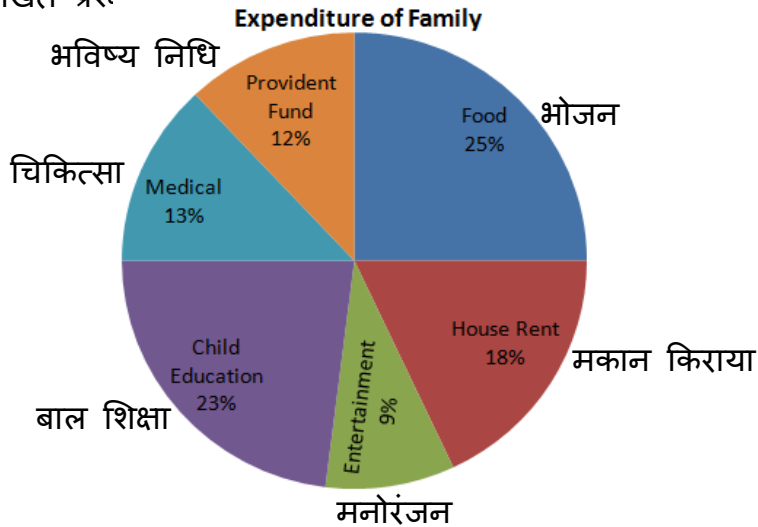
- (b) The ratio of the number of Indian tourists that went to USA to the number of Indian tourists who were below 30 years of age is ? **6**

संयुक्त राज्य अमेरिका गए भारतीय पर्यटकों की संख्या का 30 वर्ष से कम आयु के भारतीय पर्यटकों की संख्या से अनुपात क्या है?

OR

The pie chart given here represents the domestic expenditure of a family in percent. Study the chart and answer the following questions if the total monthly income of the family is Rs. 33,650

यहां दिया गया पाई चार्ट एक परिवार के घरेलू व्यय को प्रतिशत में दर्शाता है। यदि परिवार की कुल मासिक आय 33,650 रुपये है तो चार्ट का अध्ययन करें और निम्नलिखित प्रश्नों के उत्तर दें।



70th BPSC MAINS TEST SERIES 100% FREE

62.

इस हाशिए में
उम्मीदवार कुछ
न लिखें।
Candidates
should not
write in
this margin.

GENERAL STUDIES-I

Time 3:00 hrs

Full Marks -300

- (a) What is the total monthly income of the family, after provident fund deduction and payment of house rent? **6**

भविष्य निधि कटौती और मकान किराए के भुगतान के बाद परिवार की कुल मासिक आय क्या है?

- (b) What is the total amount spent per month by the family together on food and entertainment? **6**

भोजन और मनोरंजन पर परिवार द्वारा प्रति माह कुल कितनी राशि खर्च की जाती है?

प्रश्नों के सामने बने सही
बॉक्स में Tick ✓
का निशान लगायें।
Mark Tick
in appropriate box
in front of
question no.

70th BPSC MAINS TEST SERIES 100% FREE

63.

इस हाशिए में
उम्मीदवार कुछ
न लिखें।
Candidates
should not
write in
this margin.

प्रश्नों के सामने बने सही
बॉक्स में Tick ✓
का निशान लगायें।
Mark Tick
in appropriate box
in front of
question no.

GENERAL STUDIES-I

Time 3:00 hrs

Full Marks -300

70th BPSC MAINS TEST SERIES 100% FREE

64.

इस हाशिए में
उम्मीदवार कुछ
न लिखें।
Candidates
should not
write in
this margin.

प्रश्नों के सामने बने सही
बॉक्स में Tick ✓
का निशान लगायें।
Mark Tick
in appropriate box
in front of
question no.

GENERAL STUDIES-I

Time 3:00 hrs

Full Marks -300

Space For Rough Work

65.

रफ़ कार्य के लिए स्थान

Space For Rough Work

66.

रफ़ कार्य के लिए स्थान