

1.

परीक्षार्थियों के लिए आवश्यक अनुदेश		विषय: सामान्य अध्ययन Sub: General Studies								
इन्हें ध्यानपूर्वक पढ़ें और अनुपालन करें, अन्यथा दंड के भागी होंगे।		उत्तर का माध्यम: हिन्दी अंग्रेजी उर्दू Answer Medium: Hindi Eng. Urdu <div><input type="checkbox"/></div> <div><input type="checkbox"/></div> <div><input type="checkbox"/></div>								
<div>1. इस उत्तर पुस्तिका में कुल 64 क्रमांकित पृष्ठ हैं। कृपया पृष्ठों की जांच कर लें। यदि कोई त्रुटि या कमी हो तो तुरंत उत्तर पुस्तिका बदलवा लें।</div> <div>2. अपने प्रवेश पत्र से मिलान कर केवल आवरण पृष्ठ पर निर्धारित स्थान में अपना नाम एवं अनुक्रमांक (Enrollment Number) अंतर्राष्ट्रीय अंकों तथा अक्षरों में स्पष्ट रूप से लिखें।</div> <div>3. अनुक्रमांक के प्रत्येक अंक अलग-अलग बॉक्स में लिखें। इसके ठीक नीचे, लंबे बॉक्स में <table><tr><td>ए</td><td>ओ</td></tr><tr><td>के</td><td>एन</td></tr><tr><td>ई</td><td></td></tr></table> प्रत्येक अंक को शब्दों में अक्षरवार लिखें।</div> <div>4. उत्तर पुस्तिका के अंदर किसी पृष्ठ पर प्रश्नोत्तर के अलावा अपना नाम, अनुक्रमांक, कोई धार्मिक शब्द, पहचान चिह्न या परीक्षक को प्रत्यक्ष/अप्रत्यक्ष रूप से कोई भी प्रार्थना/धमकी भरी बातें न लिखें। यदि ऐसा पाया गया तो उत्तर पुस्तिका रद्द कर दी जाएगी।</div> <div>5. प्रश्नों के उत्तर सिर्फ उसी निर्धारित स्थान पर लिखें जो उत्तर पुस्तिका में दिया गया है। निर्धारित स्थान के बाहर लिखे गए उत्तर का मूल्यांकन नहीं किया जाएगा। यदि आप किसी प्रश्नोत्तर को हल करना चाहते हैं तो उसके सामने बने बॉक्स में Tick <input checked="" type="checkbox"/> का निशान लगाएं। उदाहरण: 1.(a) <input type="checkbox"/> या (b) <input type="checkbox"/></div> <div>6. यदि आप किसी प्रश्नोत्तर को रद्द करना चाहते हैं तो उस पर आर-पार क्रॉस (x) करके काट दें और उसके ऊपर 'रद्द' लिखें।</div> <div>7. उपस्थिति पत्र पर प्रत्येक परीक्षा के लिए वही हस्ताक्षर करें जो आपने पहले किया था। यदि हस्ताक्षर में कोई भिन्नता होगी तो उत्तर पुस्तिका रद्द कर दी जाएगी।</div> <div>8. प्रश्नों के उत्तर एक ही स्याही से लिखें। यदि स्याही बदलनी पड़े तो वीक्षक (Invigilator) से आवरण पृष्ठ पर नियत स्थान <input checked="" type="checkbox"/> पर अभिप्रमाणन कराना अनिवार्य है।</div> <div>9. उपस्थिति सूची में अपने नाम के सामने उत्तर पुस्तिका की संख्या अवश्य लिखें और हस्ताक्षर करें। अन्यथा उत्तर पुस्तिका रद्द कर दी जाएगी।</div> <div>10. परीक्षा कक्ष में यदि कोई पुस्तक/उत्तर सामग्री आपसे बरामद होती है या आप नकल करते/कराते हैं, बात-चीत करते या दुर्व्यवहार करते पाए जाते हैं, तो इस परीक्षा सहित आगामी पाँच वर्षों के लिए तथा परीक्षा से संबंधित भ्रामक एवं सनसनीखेज अफवाह फैलाने पर तीन वर्षों के लिए आयोग की परीक्षाओं से वंचित कर दिए जाएंगे। इसके अलावा, बिहार परीक्षा संचालन अधिनियम, 1985 के तहत भी दंडित किए जाएंगे।</div> <div>11. कोई अतिरिक्त उत्तर पुस्तिका नहीं दी जाएगी।</div> <div>12. उत्तर पुस्तिका सौंपने के बाद ही परीक्षा कक्ष से बाहर निकलें।</div> <div>13. केन्द्राधीक्षक के निर्देशों का पालन करना अनिवार्य है।</div>		ए	ओ	के	एन	ई		तिथि/Date-		
		ए	ओ							
		के	एन							
		ई								
		Roll No.								
		प्रश्न संख्या Q. No.	प्राप्तांक/Marks Obtained (परीक्षक भरेंगे)							
कुल (अंकों में) Total (In figures)										
कुल (शब्दों में) Total (In words)										
परीक्षक Examiner	प्रधान परीक्षक Head Examiner									
विषय: सामान्य अध्ययन Sub: General Studies										

2.

इस पृष्ठ पर न लिखें।

70th BPSC MAINS TEST SERIES 100% FREE

3.

इस हाशिए में
उम्मीदवार कुछ न
लिखें।
Candidates
should not
write in this
margin.

प्रश्नों के सामने बने सही
बॉक्स में Tick ☒
का निशान लगायें।
Mark Tick ☒
in appropriate
box in front
of question no.

GENERAL STUDIES-I

Time 3:00 hrs.

Full Marks- 300

1. निम्नलिखित में से प्रत्येक पर संक्षिप्त टिप्पणियाँ लिखिए—
- (a) ☐ स्वराज पार्टी का भारतीय स्वतंत्रता आंदोलन में योगदान बताइए
Describe the contribution of the Swaraj Party to the Indian
independence movement.

8.

70th BPSC MAINS TEST SERIES 100% FREE

4.

इस हाशिए में
उम्मीदवार कुछ न
लिखें।
Candidates
should not
write in this
margin.

प्रश्नों के सामने बने सही
बॉक्स में Tick ☒
का निशान लगायें।
Mark Tick ☒
in appropriate
box in front
of question no.

GENERAL STUDIES-I

Time 3:00 hrs.

Full Marks- 300

70th BPSC MAINS TEST SERIES 100% FREE

5.

इस हाशिए में
उम्मीदवार कुछ न
लिखें।
Candidates
should not
write in this
margin.

प्रश्नों के सामने बने सही
बॉक्स में Tick ☒
का निशान लगायें।
Mark Tick ☒
in appropriate
box in front
of question no.

GENERAL STUDIES-I

Time 3:00 hrs.

Full Marks- 300

(b) ☐

रॉलेट एक्ट का क्रांतिकारी आंदोलन पर पड़ने वाले प्रभाव की संक्षिप्त चर्चा कीजिए
Explain the impact of the Rowlatt Act on the revolutionary
movement

8.

70th BPSC MAINS TEST SERIES 100% FREE

6.

इस हाशिए में
उम्मीदवार कुछ न
लिखें।
Candidates
should not
write in this
margin.

प्रश्नों के सामने बने सही
बॉक्स में Tick ☒
का निशान लगायें।
Mark Tick ☒
in appropriate
box in front
of question no.

GENERAL STUDIES-I

Time 3:00 hrs.

Full Marks- 300

70th BPSC MAINS TEST SERIES 100% FREE

7.

इस हाशिए में
उम्मीदवार कुछ न
लिखें।
Candidates
should not
write in this
margin.

प्रश्नों के सामने बने सही
बॉक्स में Tick ☒
का निशान लगायें।
Mark Tick ☒
in appropriate
box in front
of question no.

GENERAL STUDIES-I

Time 3:00 hrs.

Full Marks- 300

(c) ☐

1935 का भारत शासन अधिनियम

Describe the Government of India Act of 1935.

8.

70th BPSC MAINS TEST SERIES 100% FREE

8.

इस हाशिए में
उम्मीदवार कुछ न
लिखें।
Candidates
should not
write in this
margin.

प्रश्नों के सामने बने सही
बॉक्स में Tick ☒
का निशान लगायें।
Mark Tick ☒
in appropriate
box in front
of question no.

GENERAL STUDIES-I	
Time 3:00 hrs.	Full Marks- 300

70th BPSC MAINS TEST SERIES 100% FREE

9.

इस हाशिए में
उम्मीदवार कुछ न
लिखें।
Candidates
should not
write in this
margin.

प्रश्नों के सामने बने सही
बॉक्स में Tick ☒
का निशान लगायें।
Mark Tick ☒
in appropriate
box in front
of question no.

GENERAL STUDIES-I

Time 3:00 hrs.

Full Marks- 300

(d) ☐

1857 की क्रांति में वीर कुंवर सिंह का योगदान

Explain the contribution of Veer Kunwar Singh in the Revolt of 1857.

7.

70th BPSC MAINS TEST SERIES 100% FREE

10.

इस हाशिए में
उम्मीदवार कुछ न
लिखें।
Candidates
should not
write in this
margin.

प्रश्नों के सामने बने सही
बॉक्स में Tick ☒
का निशान लगायें।
Mark Tick ☒
in appropriate
box in front
of question no.

GENERAL STUDIES-I

Time 3:00 hrs.

Full Marks- 300

70th BPSC MAINS TEST SERIES 100% FREE

11.

इस हाशिए में
उम्मीदवार कुछ न
लिखें।
Candidates
should not
write in this
margin.

प्रश्नों के सामने बने सही
बॉक्स में Tick ☒
का निशान लगायें।
Mark Tick ☒
in appropriate
box in front
of question no.

GENERAL STUDIES-I

Time 3:00 hrs.

Full Marks- 300

(e) ☐

मौर्यकाल के स्थापत्य कला का बिहार में विस्तार बताइए, साथ ही पटना स्थित राजप्रासाद का वर्णन कीजिए। 7.
Describe the expansion of Mauryan architecture in Bihar and also give an
account of the royal palace located in Patna

70th BPSC MAINS TEST SERIES 100% FREE

12.

इस हाशिए में
उम्मीदवार कुछ न
लिखें।
Candidates
should not
write in this
margin.

प्रश्नों के सामने बने सही
बॉक्स में Tick ☒
का निशान लगायें।
Mark Tick ☒
in appropriate
box in front
of question no.

GENERAL STUDIES-I

Time 3:00 hrs.

Full Marks- 300

70th BPSC MAINS TEST SERIES 100% FREE

13.

इस हाशिए में
उम्मीदवार कुछ न
लिखें।
Candidates
should not
write in this
margin.

प्रश्नों के सामने बने सही
बॉक्स में Tick ☒
का निशान लगायें।
Mark Tick ☒
in appropriate
box in front
of question no.

GENERAL STUDIES-I

Time 3:00 hrs.

Full Marks- 300

2.(a) ☐

सविनय अवज्ञा आंदोलन प्रारंभ करने के कारणों की चर्चा करते हुए आंदोलन के क्रम में हुए प्रमुख कार्यक्रमों को बताइए। गांधी इरविन समझौता एवं द्वितीय गोलमेज में कांग्रेस की सहभागिता का आलोचनात्मक परीक्षण कीजिए।

Discuss the reasons behind the launch of the Civil Disobedience Movement, and mention the major events that occurred during the course of the movement. Critically examine the Gandhi-Irwin Pact and the participation of the Congress in the Second Round Table Conference.

38

Or/अथवा

(b) ☐

भारतीय स्वतंत्रता आंदोलन में क्रांतिकारियों के योगदान को बताइए। क्या क्रांतिकारी आंदोलन को यदि भारतीय राष्ट्रीय कांग्रेस का समर्थन मिलता तो आजादी हमें समय से पहले मिल सकती थी, अपना तर्क दीजिए।

Describe the contribution of revolutionaries to the Indian freedom struggle. Do you think if the revolutionary movement had received support from the Congress, India could have attained independence earlier? Provide your reasoning.

38

70th BPSC MAINS TEST SERIES 100% FREE

14.

इस हाशिए में
उम्मीदवार कुछ न
लिखें।
Candidates
should not
write in this
margin.

प्रश्नों के सामने बने सही
बॉक्स में Tick ☒
का निशान लगायें।
Mark Tick ☒
in appropriate
box in front
of question no.

GENERAL STUDIES-I

Time 3:00 hrs.

Full Marks- 300

70th BPSC MAINS TEST SERIES 100% FREE

15.

इस हाशिए में
उम्मीदवार कुछ न
लिखें।
Candidates
should not
write in this
margin.

प्रश्नों के सामने बने सही
बॉक्स में Tick ☒
का निशान लगायें।
Mark Tick ☒
in appropriate
box in front
of question no.

GENERAL STUDIES-I

Time 3:00 hrs.

Full Marks- 300

70th BPSC MAINS TEST SERIES 100% FREE

16.

इस हाशिए में
उम्मीदवार कुछ न
लिखें।
Candidates
should not
write in this
margin.

प्रश्नों के सामने बने सही
बॉक्स में Tick ☒
का निशान लगायें।
Mark Tick ☒
in appropriate
box in front
of question no.

GENERAL STUDIES-I

Time 3:00 hrs.

Full Marks- 300

70th BPSC MAINS TEST SERIES 100% FREE

17.

इस हाशिए में
उम्मीदवार कुछ न
लिखें।
Candidates
should not
write in this
margin.

प्रश्नों के सामने बने सही
बॉक्स में Tick ☒
का निशान लगायें।
Mark Tick ☒
in appropriate
box in front
of question no.

GENERAL STUDIES-I

Time 3:00 hrs.

Full Marks- 300

70th BPSC MAINS TEST SERIES 100% FREE

18.

इस हाशिए में
उम्मीदवार कुछ न
लिखें।
Candidates
should not
write in this
margin.

प्रश्नों के सामने बने सही
बॉक्स में Tick ☒
का निशान लगायें।
Mark Tick ☒
in appropriate
box in front
of question no.

GENERAL STUDIES-I

Time 3:00 hrs.

Full Marks- 300

3.(a) ☐

बंगाल विभाजन ने भारतीय स्वतंत्रता आंदोलन को अधिक बल प्रदान किया। कथन की समीक्षा कीजिए ब्रिटिश सरकार बंगाल को विभाजित कर अपने उद्देश्यों को प्राप्त करने में सफल नहीं रही। अपना तर्कपूर्ण विचार प्रकट करें।

The partition of Bengal gave further momentum to the Indian independence movement. The British government failed to achieve its objectives through the partition of Bengal. To what extent do you agree with this? Present your reasoned opinion.

38

Or/अथवा

(b) ☐

मौर्य साम्राज्य की कला और वास्तुकला की विशेषताओं को बताइये, प्रमुख उदाहरण देते हुए उनके महत्व को समझाइये।

Describe the features of Mauryan art and architecture. Explain their significance with prominent examples.

38

70th BPSC MAINS TEST SERIES 100% FREE

19.

प्रश्नों के सामने बने सही
बॉक्स में Tick ☒
का निशान लगायें।
Mark Tick ☒
in appropriate
box in front
of question no.

इस हाशिए में
उम्मीदवार कुछ न
लिखें।
Candidates
should not
write in this
margin.

GENERAL STUDIES-I	
Time 3:00 hrs.	Full Marks- 300

70th BPSC MAINS TEST SERIES 100% FREE

20.

इस हाशिए में
उम्मीदवार कुछ न
लिखें।
Candidates
should not
write in this
margin.

प्रश्नों के सामने बने सही
बॉक्स में Tick ☒
का निशान लगायें।
Mark Tick ☒
in appropriate
box in front
of question no.

GENERAL STUDIES-I

Time 3:00 hrs.

Full Marks- 300

70th BPSC MAINS TEST SERIES 100% FREE

21.

इस हाशिए में
उम्मीदवार कुछ न
लिखें।
Candidates
should not
write in this
margin.

प्रश्नों के सामने बने सही
बॉक्स में Tick ☒
का निशान लगायें।
Mark Tick ☒
in appropriate
box in front
of question no.

GENERAL STUDIES-I

Time 3:00 hrs.

Full Marks- 300

70th BPSC MAINS TEST SERIES 100% FREE

22.

इस हाशिए में
उम्मीदवार कुछ न
लिखें।
Candidates
should not
write in this
margin.

प्रश्नों के सामने बने सही
बॉक्स में Tick ☒
का निशान लगायें।
Mark Tick ☒
in appropriate
box in front
of question no.

GENERAL STUDIES-I

Time 3:00 hrs.

Full Marks- 300

70th BPSC MAINS TEST SERIES 100% FREE

23.

इस हाशिए में
उम्मीदवार कुछ न
लिखें।
Candidates
should not
write in this
margin.

प्रश्नों के सामने बने सही
बॉक्स में Tick ☒
का निशान लगायें।
Mark Tick ☒
in appropriate
box in front
of question no.

GENERAL STUDIES-I

Time 3:00 hrs.

Full Marks- 300

4. निम्नलिखित में से प्रत्येक पर संक्षिप्त टिप्पणियाँ लिखिए-

- (a) ☐ ट्रंप प्रशासन के द्वारा लगाए गए पारस्परिक टैरिफ का भारतीय निर्यात पर प्रभाव। 8
What has been the impact of the reciprocal tariffs imposed by the Trump
administration on Indian exports?

70th BPSC MAINS TEST SERIES 100% FREE

24.

प्रश्नों के सामने बने सही
बॉक्स में Tick ☒
का निशान लगायें।
Mark Tick ☒
in appropriate
box in front
of question no.

इस हाशिए में
उम्मीदवार कुछ न
लिखें।
Candidates
should not
write in this
margin.

GENERAL STUDIES-I	
Time 3:00 hrs.	Full Marks- 300

70th BPSC MAINS TEST SERIES 100% FREE

25.

इस हाशिए में
उम्मीदवार कुछ न
लिखें।
Candidates
should not
write in this
margin.

प्रश्नों के सामने बने सही
बॉक्स में Tick ☒
का निशान लगायें।
Mark Tick ☒
in appropriate
box in front
of question no.

GENERAL STUDIES-I

Time 3:00 hrs.

Full Marks- 300

(b) ☐

मुक्त व्यापार समझौता के उद्देश्य को परिभाषित कीजिए, भारतीय अर्थव्यवस्था पर इसके प्रभाव की चर्चा करें।
Define the objectives of a Free Trade Agreement (FTA) and discuss its impact on
the Indian economy.

8

70th BPSC MAINS TEST SERIES 100% FREE

26.

प्रश्नों के सामने बने सही
बॉक्स में Tick ☒
का निशान लगायें।
Mark Tick ☒
in appropriate
box in front
of question no.

इस हाशिए में
उम्मीदवार कुछ न
लिखें।
Candidates
should not
write in this
margin.

GENERAL STUDIES-I	
Time 3:00 hrs.	Full Marks- 300

70th BPSC MAINS TEST SERIES 100% FREE

27.

इस हाशिए में
उम्मीदवार कुछ न
लिखें।
Candidates
should not
write in this
margin.

प्रश्नों के सामने बने सही
बॉक्स में Tick ☒
का निशान लगायें।
Mark Tick ☒
in appropriate
box in front
of question no.

GENERAL STUDIES-I

Time 3:00 hrs.

Full Marks- 300

(c) ☐

जल जीवन हरियाली योजना के उद्देश्य एवं जलवायु कारवाई में इसके योगदान को बताइए

What are the objectives of the "Jal Jeevan Hariyali Yojana" and how does it
contribute to combating climate change?

8

70th BPSC MAINS TEST SERIES 100% FREE

28.

प्रश्नों के सामने बने सही
बॉक्स में Tick ☒
का निशान लगायें।
Mark Tick ☒
in appropriate
box in front
of question no.

इस हाशिए में
उम्मीदवार कुछ न
लिखें।
Candidates
should not
write in this
margin.

GENERAL STUDIES-I	
Time 3:00 hrs.	Full Marks- 300

70th BPSC MAINS TEST SERIES 100% FREE

29.

इस हाशिए में
उम्मीदवार कुछ न
लिखें।
Candidates
should not
write in this
margin.

प्रश्नों के सामने बने सही
बॉक्स में Tick ☒
का निशान लगायें।
Mark Tick ☒
in appropriate
box in front
of question no.

GENERAL STUDIES-I

Time 3:00 hrs.

Full Marks- 300

(d) ☐

जीरो बजट नेचुरल फार्मिंग क्या है? इसके क्या लाभ हैं?

What is Zero Budget Natural Farming (ZBNF)? What are its benefits?

7

70th BPSC MAINS TEST SERIES 100% FREE

30.

इस हाशिए में
उम्मीदवार कुछ न
लिखें।
Candidates
should not
write in this
margin.

प्रश्नों के सामने बने सही
बॉक्स में Tick ☒
का निशान लगायें।
Mark Tick ☒
in appropriate
box in front
of question no.

GENERAL STUDIES-I

Time 3:00 hrs.

Full Marks- 300

70th BPSC MAINS TEST SERIES 100% FREE

31.

इस हाशिए में
उम्मीदवार कुछ न
लिखें।
Candidates
should not
write in this
margin.

प्रश्नों के सामने बने सही
बॉक्स में Tick ☒
का निशान लगायें।
Mark Tick ☒
in appropriate
box in front
of question no.

GENERAL STUDIES-I

Time 3:00 hrs.

Full Marks- 300

(e) ☐

विश्व खुशहाली सूचकांक 2025 में भारत के प्रदर्शन को आप किस प्रकार देखते हैं?

How do you view India's performance in the World Happiness Index 2025?

7

70th BPSC MAINS TEST SERIES 100% FREE

32.

प्रश्नों के सामने बने सही
बॉक्स में Tick ☒
का निशान लगायें।
Mark Tick ☒
in appropriate
box in front
of question no.

इस हाशिए में
उम्मीदवार कुछ न
लिखें।
Candidates
should not
write in this
margin.

GENERAL STUDIES-I	
Time 3:00 hrs.	Full Marks- 300

70th BPSC MAINS TEST SERIES 100% FREE

33.

इस हाशिए में उम्मीदवार कुछ न लिखें।
Candidates should not write in this margin.

प्रश्नों के सामने बने सही बॉक्स में Tick ☒ का निशान लगायें।
Mark Tick ☒ in appropriate box in front of question no.

GENERAL STUDIES-I

Time 3:00 hrs.

Full Marks- 300

5. (a) ☐

क्वाड समूह हिन्द-प्रशांत क्षेत्र में शांति स्थापित करने में कितना सक्षम है? इस समूह के उद्देश्य क्या हैं? भारत की भूमिका के लिए आदर्श स्थिति क्या हो सकती है? अपना विचार दीजिए।

How capable is the QUAD group in establishing peace in the Indo-Pacific region?

What are the objectives of this group, and what could be the ideal role for India?

Present your views.

Or/अथवा

38

(b) ☐

हाल ही के कुछ समय से भारत और कनाडा के रिश्ते में काफी तनावपूर्ण स्थिति बनी हुई है। इसके कारण एवं प्रभाव की चर्चा करें। वर्ष 2025 में कनाडा में आयोजित होने वाले जी-7 की बैठक का भारतीय संदर्भ में क्या महत्व है?

In recent times, the relationship between India and Canada has become quite tense. Discuss the causes and effects of this tension. What is the significance of the G7 summit to be held in Canada in 2025 in the Indian context?

38

70th BPSC MAINS TEST SERIES 100% FREE

34.

प्रश्नों के सामने बने सही
बॉक्स में Tick ☒
का निशान लगायें।
Mark Tick ☒
in appropriate
box in front
of question no.

इस हाशिए में
उम्मीदवार कुछ न
लिखें।
Candidates
should not
write in this
margin.

GENERAL STUDIES-I	
Time 3:00 hrs.	Full Marks- 300

70th BPSC MAINS TEST SERIES 100% FREE

35.

इस हाशिए में
उम्मीदवार कुछ न
लिखें।
Candidates
should not
write in this
margin.

प्रश्नों के सामने बने सही
बॉक्स में Tick ☒
का निशान लगायें।
Mark Tick ☒
in appropriate
box in front
of question no.

GENERAL STUDIES-I	
Time 3:00 hrs.	Full Marks- 300

70th BPSC MAINS TEST SERIES 100% FREE

36.

इस हाशिए में
उम्मीदवार कुछ न
लिखें।
Candidates
should not
write in this
margin.

प्रश्नों के सामने बने सही
बॉक्स में Tick ☒
का निशान लगायें।
Mark Tick ☒
in appropriate
box in front
of question no.

GENERAL STUDIES-I	
Time 3:00 hrs.	Full Marks- 300

70th BPSC MAINS TEST SERIES 100% FREE

37.

इस हाशिए में
उम्मीदवार कुछ न
लिखें।
Candidates
should not
write in this
margin.

प्रश्नों के सामने बने सही
बॉक्स में Tick ☒
का निशान लगायें।
Mark Tick ☒
in appropriate
box in front
of question no.

GENERAL STUDIES-I	
Time 3:00 hrs.	Full Marks- 300

70th BPSC MAINS TEST SERIES 100% FREE

38.

इस हाशिए में
उम्मीदवार कुछ न
लिखें।
Candidates
should not
write in this
margin.

प्रश्नों के सामने बने सही
बॉक्स में Tick ☒
का निशान लगायें।
Mark Tick ☒
in appropriate
box in front
of question no.

GENERAL STUDIES-I

Time 3:00 hrs.

Full Marks- 300

6. (a) ☐

ग्रीष्मकालीन ओलंपिक 2036 में भारत की मेजबानी की संभावना और इसके महत्व की चर्चा कीजिए। यह मेजबानी भारत को वैश्विक स्तर पर किस प्रकार स्थापित करेगी?

Discuss the significance of the possibility of India hosting the Summer Olympics in 2036. How would this hosting establish India at the global level?

Or/अथवा

38

(b) ☐

विकसित भारत @2047 भारत का विजन है। इस लक्ष्य की प्राप्ति में प्रमुख बाधाओं की चर्चा करें एवं साथ ही यह भी बताएँ कि यह लक्ष्य किस प्रकार प्राप्त किया जा सकता है?

‘Viksit Bharat @2047’ is the Indian government's vision of a developed India.

Discuss the major challenges in achieving this goal, and also explain how this goal can be realized.

38

70th BPSC MAINS TEST SERIES 100% FREE

39.

इस हाशिए में
उम्मीदवार कुछ न
लिखें।
Candidates
should not
write in this
margin.

प्रश्नों के सामने बने सही
बॉक्स में Tick ☒
का निशान लगायें।
Mark Tick ☒
in appropriate
box in front
of question no.

GENERAL STUDIES-I

Time 3:00 hrs.

Full Marks- 300

70th BPSC MAINS TEST SERIES 100% FREE

40.

इस हाशिए में
उम्मीदवार कुछ न
लिखें।
Candidates
should not
write in this
margin.

प्रश्नों के सामने बने सही
बॉक्स में Tick ☒
का निशान लगायें।
Mark Tick ☒
in appropriate
box in front
of question no.

GENERAL STUDIES-I

Time 3:00 hrs.

Full Marks- 300

70th BPSC MAINS TEST SERIES 100% FREE

41.

इस हाशिए में
उम्मीदवार कुछ न
लिखें।
Candidates
should not
write in this
margin.

प्रश्नों के सामने बने सही
बॉक्स में Tick ☒
का निशान लगायें।
Mark Tick ☒
in appropriate
box in front
of question no.

GENERAL STUDIES-I	
Time 3:00 hrs.	Full Marks- 300

70th BPSC MAINS TEST SERIES 100% FREE

42.

इस हाशिए में
उम्मीदवार कुछ न
लिखें।
Candidates
should not
write in this
margin.

प्रश्नों के सामने बने सही
बॉक्स में Tick ☒
का निशान लगायें।
Mark Tick ☒
in appropriate
box in front
of question no.

GENERAL STUDIES-I	
Time 3:00 hrs.	Full Marks- 300

70th BPSC MAINS TEST SERIES 100% FREE

43.

इस हाशिए में
उम्मीदवार कुछ न
लिखें।
Candidates
should not
write in this
margin.

प्रश्नों के सामने बने सही
बॉक्स में Tick ☒
का निशान लगायें।
Mark Tick ☒
in appropriate
box in front
of question no.

7. a

GENERAL STUDIES-I

Time 3:00 hrs.

Full Marks- 300

निम्न सारणी का ध्यानपूर्वक अध्ययन कीजिए और निम्नलिखित प्रश्नों के उत्तर दीजिये।
कुल 06 छानों द्वारा 05 भिन्न-भिन्न विषयों में प्राप्त अंकों को प्रतिशत में दर्शाया गया है-

विषय	विज्ञान	गणित	हिन्दी	अंग्रेजी	संस्कृत
कुल अंक	कुल अंक(75 में से)	कुल अंक(150 में से)	कुल अंक(100 में से)	कुल अंक(50 में से)	कुल अंक(150 में से)
A	85	68	76	92	89
B	78	72	84	80	64
C	66	75	79	88	72
D	74	62	91	74	70
E	90	75	67	68	69
F	86	80	69	78	82

- छात्र D के द्वारा परीक्षा में अर्जित सभी 05 विषयों का एक साथ कुल अंक प्रतिशत ज्ञात कीजिए। 8
- विज्ञान विषय में सभी छात्रों द्वारा प्राप्त अंक का औसत अंक ज्ञात कीजिए। 8
- सभी छात्रों द्वारा गणित तथा संस्कृत विषय में प्राप्त अंकों का प्रतिशत का औसत ज्ञात कीजिए। 8
- सभी छात्रों द्वारा अंग्रेजी विषय में प्राप्त अंकों का कुल योग ज्ञात कीजिए। 6
- छात्र E द्वारा विज्ञान एवं गणित विषय में प्राप्त कुल अंक एवं हिन्दी, अंग्रेजी तथा संस्कृत विषय में प्राप्त कुल अंकों का अनुपात ज्ञात कीजिए। 6

70th BPSC MAINS TEST SERIES 100% FREE

44.

इस हाशिए में
उम्मीदवार कुछ न
लिखें।
Candidates
should not
write in this
margin.

प्रश्नों के सामने बने सही
बॉक्स में Tick ☒
का निशान लगायें।
Mark Tick ☒
in appropriate
box in front
of question no.

GENERAL STUDIES-I

Time 3:00 hrs.

Full Marks- 300

Carefully study the following table and answer the following questions.
The marks obtained by 6 students in 5 different subjects are
represented as percentages.

Subject	Science	Mathematics	Hindi	English	Sanskrit
Total Marks	75	150	100	50	150
A	85	68	76	92	89
B	78	72	84	80	64
C	66	75	79	88	72
D	74	62	91	74	70
E	90	75	67	68	69
F	86	80	69	78	82

Questions:

- Calculate the total percentage of marks obtained by student D across all 5 subjects. 8
- Calculate the average marks obtained by all students in the Science subject. 8
- Calculate the average percentage of marks obtained by all students in Mathematics and Sanskrit subjects. 8
- Calculate the total sum of marks obtained by all students in the English subject. 6
- Calculate the ratio of the total marks obtained by student E in Science and Mathematics subjects to the total marks obtained by student E in Hindi, English, and Sanskrit subjects. 6

70th BPSC MAINS TEST SERIES 100% FREE

45.

इस हाशिए में उम्मीदवार कुछ न लिखें।
Candidates should not write in this margin.

प्रश्नों के सामने बने सही बॉक्स में Tick ☒ का निशान लगायें।
Mark Tick ☒ in appropriate box in front of question no.

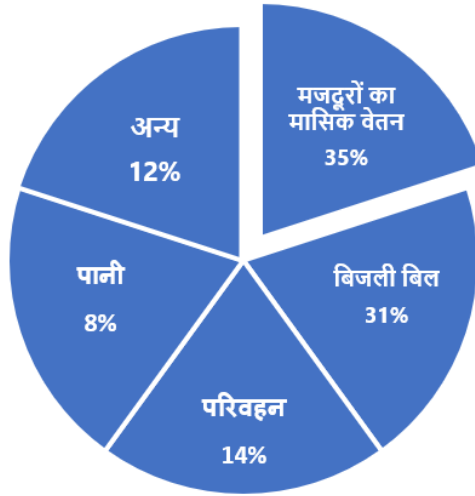
GENERAL STUDIES-I

Time 3:00 hrs.

Full Marks- 300

b.

नीचे दिए गए वृत्त आरेख का सावधानीपूर्वक अवलोकन कीजिए एवं निम्न प्रश्नों के उत्तर दीजिए।
एक कंपनी का मासिक आय 10,00,000 (10 लाख) रुपये है। विभिन्न स्रोतों पर कंपनी द्वारा किया गया व्यय (प्रतिशत में)-



- मजदूरों की मासिक वेतन पर किया गया व्यय बिजली बिल भुगतान से कितना कम या अधिक है, ज्ञात कीजिए। 8
- बिजली बिल भुगतान पर किए गए व्यय का परिवहन एवं अन्य मदों पर किए गए कुल व्यय के योग से अनुपात ज्ञात कीजिए। 8
- सर्वाधिक व्यय वाले मद एवं न्यूनतम व्यय वाले मद में कितने रुपये का अंतर है? 8
- मजदूरों की मासिक वेतन पर किया गया व्यय का कितना प्रतिशत परिवहन पर व्यय किया जा रहा है, ज्ञात कीजिए। 6
- परिवहन, पानी एवं बिजली बिल तीनों मदों पर कुल कितनी राशि व्यय की जा रही है? 6

70th BPSC MAINS TEST SERIES 100% FREE

46.

प्रश्नों के सामने बने सही
बॉक्स में Tick ☒
का निशान लगायें।
Mark Tick ☒
in appropriate
box in front
of question no.

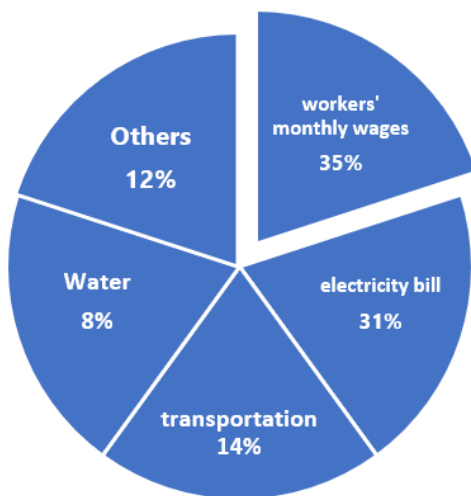
इस हाशिए में
उम्मीदवार कुछ न
लिखें।
Candidates
should not
write in this
margin.

GENERAL STUDIES-I

Time 3:00 hrs.

Full Marks- 300

Carefully observe the given pie chart and answer the following questions.
A company's monthly income is ₹10,00,000 (10 lakh). The expenses incurred by the company on different sources (as percentages) are provided in the chart.



Questions:

- I. How much more or less is the expense on workers' monthly wages compared to the electricity bill payment? 8
- II. What is the ratio of the expense on electricity bill payment to the total expense incurred on transportation and other heads? 8
- III. What is the difference in rupees between the highest and lowest expense categories? 8
- IV. What percentage of the expense on workers' monthly wages is spent on transportation? 6
- V. What is the total amount spent on transportation, water, and electricity bills combined? 6

70th BPSC MAINS TEST SERIES 100% FREE

47.

प्रश्नों के सामने बने सही
बॉक्स में Tick ☒
का निशान लगायें।
Mark Tick ☒
in appropriate
box in front
of question no.

इस हाशिए में
उम्मीदवार कुछ न
लिखें।
Candidates
should not
write in this
margin.

GENERAL STUDIES-I	
Time 3:00 hrs.	Full Marks- 300

70th BPSC MAINS TEST SERIES 100% FREE

48.

इस हाशिए में
उम्मीदवार कुछ न
लिखें।
Candidates
should not
write in this
margin.

प्रश्नों के सामने बने सही
बॉक्स में Tick ☒
का निशान लगायें।
Mark Tick ☒
in appropriate
box in front
of question no.

GENERAL STUDIES-I

Time 3:00 hrs.

Full Marks- 300

70th BPSC MAINS TEST SERIES 100% FREE

49.

इस हाशिए में
उम्मीदवार कुछ न
लिखें।
Candidates
should not
write in this
margin.

प्रश्नों के सामने बने सही
बॉक्स में Tick ☒
का निशान लगायें।
Mark Tick ☒
in appropriate
box in front
of question no.

GENERAL STUDIES-I	
Time 3:00 hrs.	Full Marks- 300

70th BPSC MAINS TEST SERIES 100% FREE

50.

इस हाशिए में
उम्मीदवार कुछ न
लिखें।
Candidates
should not
write in this
margin.

प्रश्नों के सामने बने सही
बॉक्स में Tick ☒
का निशान लगायें।
Mark Tick ☒
in appropriate
box in front
of question no.

GENERAL STUDIES-I

Time 3:00 hrs.

Full Marks- 300

70th BPSC MAINS TEST SERIES 100% FREE

51.

इस हाशिए में
उम्मीदवार कुछ न
लिखें।
Candidates
should not
write in this
margin.

प्रश्नों के सामने बने सही
बॉक्स में Tick ☒
का निशान लगायें।
Mark Tick ☒
in appropriate
box in front
of question no.

GENERAL STUDIES-I

Time 3:00 hrs.

Full Marks- 300

70th BPSC MAINS TEST SERIES 100% FREE

52.

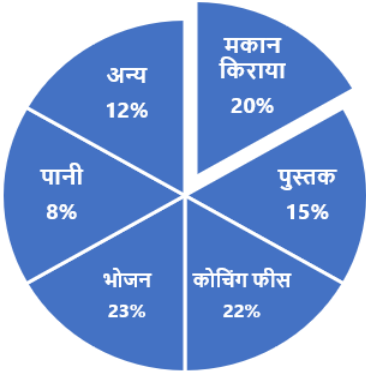
इस हाशिफ में उम्मीदवार कुछ न लिखें।
Candidates should not write in this margin.

प्रश्नों के सामने बने सही बॉक्स में Tick ☒ का निशान लगायें।
Mark Tick ☒ in appropriate box in front of question no.

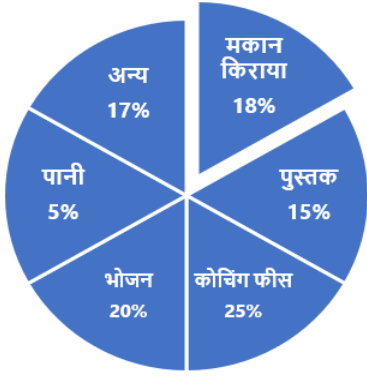
GENERAL STUDIES-I

Time 3:00 hrs. Full Marks- 300

8. a नीचे दिए गए वृत्त आरेख का सावधानीपूर्वक अध्ययन कीजिए, जो दो छात्रों A एवं B द्वारा विभिन्न मदों पर किए गए व्यय को प्रतिशत में दर्शाता है।
छात्र A एवं B की मासिक तौर पर क्रमशः 08 हजार रुपये एवं 10 हजार रुपये परिवार से दिए जाते हैं निम्नलिखित प्रश्नों के उत्तर दीजिए-



छात्र A



छात्र B

i. छात्र B द्वारा भोजन पर किया गया व्यय छात्र A द्वारा भोजन पर किए गए व्यय से कितना कम या अधिक है।	8
ii. छात्र A एवं B में अन्य मद पर कौन अधिक व्यय करता है और कितना?	8
iii. छात्र B द्वारा मकान किराया पर किए गए व्यय का छात्र A द्वारा मकान किराया पर किए गए व्यय के साथ अनुपात ज्ञात कीजिए।	8
iv. छात्र A एवं B संयुक्त रूप से कुल कितना धन पानी एवं पुस्तक पर व्यय करते हैं?	6
v. छात्र A द्वारा पुस्तक पर किए गए व्यय का वृत्त चिह्न के केन्द्र पर बने कोण का मान कितना होगा?	6

70th BPSC MAINS TEST SERIES 100% FREE

53.

इस हाशिए में
उम्मीदवार कुछ न
लिखें।
Candidates
should not
write in this
margin.

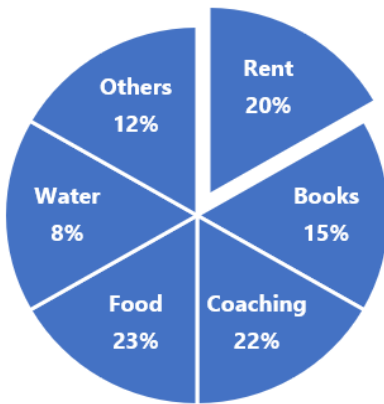
प्रश्नों के सामने बने सही
बॉक्स में Tick ☒
का निशान लगायें।
Mark Tick ☒
in appropriate
box in front
of question no.

GENERAL STUDIES-I

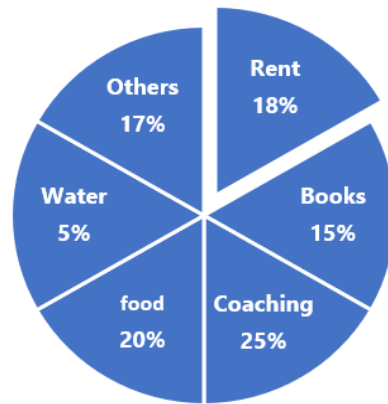
Time 3:00 hrs.

Full Marks- 300

Carefully study the given pie chart, which shows the percentage of expenses made by two students, A and B, on various categories. The monthly allowances given by their families are ₹8,000 for student A and ₹10,000 for student B.



Student A



Student B

Questions:

- How much more or less did student B spend on food compared to student A? 8
- Between student A and B, who spends more on "Other" categories, and by how much? 8
- What is the ratio of the amount spent by student B on rent to the amount spent by student A on rent? 8
- What is the total amount spent by both student A and B together on water and books? 6
- What will be the angle at the center of the pie chart representing the expenditure on books by student A? 6

70th BPSC MAINS TEST SERIES 100% FREE

54.

इस हाशिए में
उम्मीदवार कुछ न
लिखें।
Candidates
should not
write in this
margin.

प्रश्नों के सामने बने सही
बॉक्स में Tick ☒
का निशान लगायें।
Mark Tick ☒
in appropriate
box in front
of question no.

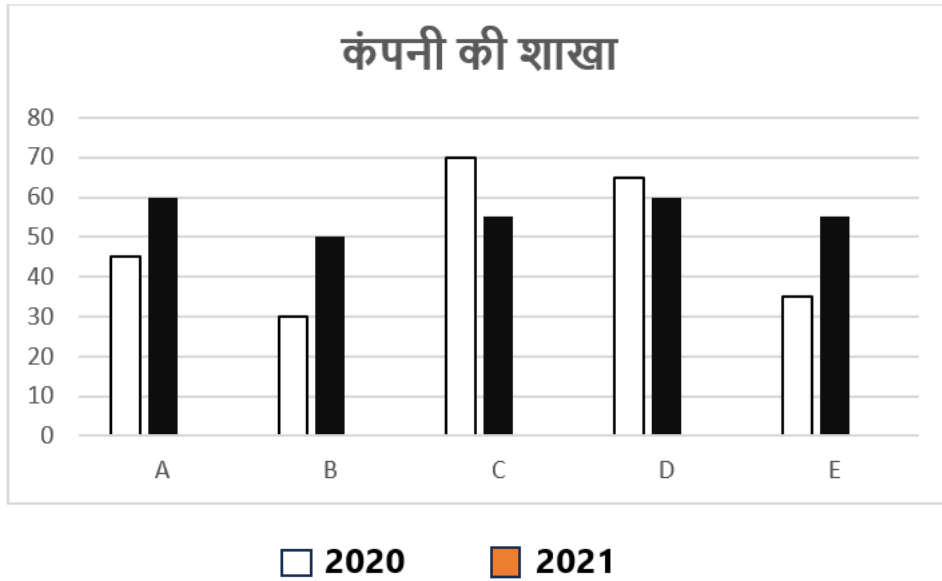
GENERAL STUDIES-I

Time 3:00 hrs.

Full Marks- 300

(b)

नीचे दिए गए दंड आरेख किसी पुस्तक कंपनी द्वारा लगातार 2 वर्षों 2020 एवं 2021 के दौरान कुल पुस्तक बिक्री को (हजार संख्या में) दर्शाता है-
वर्ष 2020 एवं 2021 में पुस्तक कंपनी द्वारा उनकी पाँच शाखाओं द्वारा A, B, C, D एवं E पुस्तक की बिक्री (हजार संख्या में)



- I. दोनों वर्षों 2020 एवं 2021 में कंपनी B की कुल बिक्री का दोनो वर्षों में कंपनी D की कुल बिक्री से अनुपात ज्ञात कीजिए। 8
- II. वर्ष 2020 में सभी शाखाओं की औसत बिक्री ज्ञात कीजिए। 8
- III. वर्ष 2020 में सभी शाखाओं की कुल बिक्री एवं वर्ष 2021 में सभी शाखाओं की कु बिक्री से अनुपात ज्ञात कीजिए। 8
- IV. दोनों वर्षों में शाखा A की कुल बिक्री दोनों वर्षों में शाखा E द्वारा की गई कुल बिक्री का कितना प्रतिशत है। 6
- V. वर्ष 2020 में सभी शाखाओं की कुल बिक्री एवं वर्ष 2021 में सभी शाखाओं की कुल बिक्री के अनुसार किस वर्ष अधिक बिक्री हुआ और कितना अधिक हुआ? 6

70th BPSC MAINS TEST SERIES 100% FREE

55.

इस हाशिए में
उम्मीदवार कुछ न
लिखें।
Candidates
should not
write in this
margin.

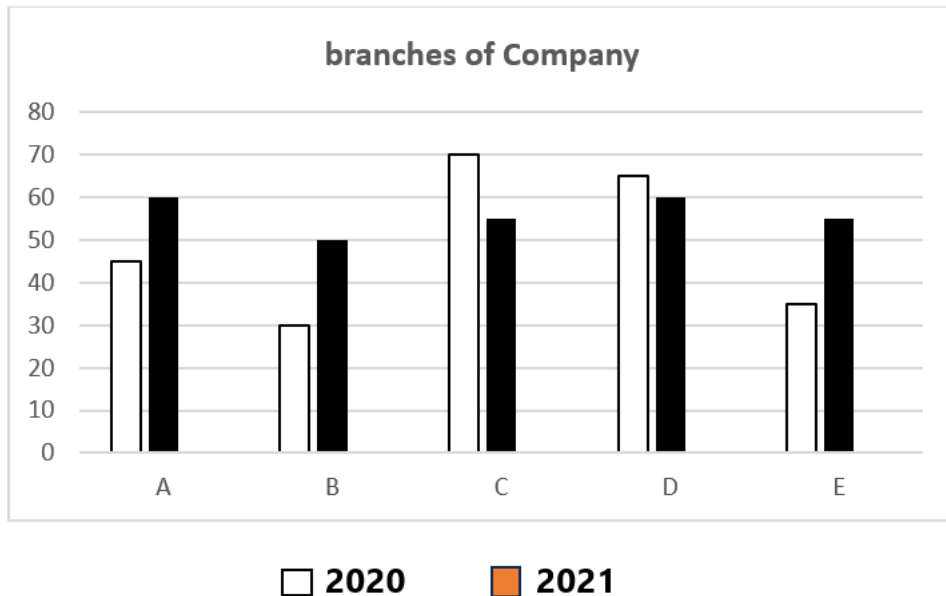
प्रश्नों के सामने बने सही
बॉक्स में Tick ☒
का निशान लगायें।
Mark Tick ☒
in appropriate
box in front
of question no.

GENERAL STUDIES-I

Time 3:00 hrs.

Full Marks- 300

The following bar chart represents the total book sales (in thousands) of a publishing company for two consecutive years, 2020 and 2021, across five branches: A, B, C, D, and E.



- i. What is the ratio of the total sales of company B to the total sales of company D in both 2020 and 2021 ? 8
- ii. What is the average sales of all branches in 2020 ? 8
- iii. What is the ratio of the total sales of all branches in 2020 to the total sales of all branches in 2021 ? 8
- iv. What is the percentage of the total sales of branch A in both years compared to the total sales of branch E in both years ? 6
- v. According to the total sales of all branches in 2020 and 2021, which year had higher sales, and by how much more ? 6

70th BPSC MAINS TEST SERIES 100% FREE

56.

इस हाशिए में
उम्मीदवार कुछ न
लिखें।
Candidates
should not
write in this
margin.

प्रश्नों के सामने बने सही
बॉक्स में Tick ☒
का निशान लगायें।
Mark Tick ☒
in appropriate
box in front
of question no.

GENERAL STUDIES-I	
Time 3:00 hrs.	Full Marks- 300

70th BPSC MAINS TEST SERIES 100% FREE

57.

प्रश्नों के सामने बने सही
बॉक्स में Tick ☒
का निशान लगायें।
Mark Tick ☒
in appropriate
box in front
of question no.

इस हाशिए में
उम्मीदवार कुछ न
लिखें।
Candidates
should not
write in this
margin.

GENERAL STUDIES-I	
Time 3:00 hrs.	Full Marks- 300

70th BPSC MAINS TEST SERIES 100% FREE

58.

इस हाशिए में
उम्मीदवार कुछ न
लिखें।
Candidates
should not
write in this
margin.

प्रश्नों के सामने बने सही
बॉक्स में Tick ☒
का निशान लगायें।
Mark Tick ☒
in appropriate
box in front
of question no.

GENERAL STUDIES-I	
Time 3:00 hrs.	Full Marks- 300

70th BPSC MAINS TEST SERIES 100% FREE

59.

इस हाशिए में
उम्मीदवार कुछ न
लिखें।
Candidates
should not
write in this
margin.

प्रश्नों के सामने बने सही
बॉक्स में Tick ☒
का निशान लगायें।
Mark Tick ☒
in appropriate
box in front
of question no.

GENERAL STUDIES-I

Time 3:00 hrs.

Full Marks- 300

70th BPSC MAINS TEST SERIES 100% FREE

60.

इस हाशिए में
उम्मीदवार कुछ न
लिखें।
Candidates
should not
write in this
margin.

प्रश्नों के सामने बने सही
बॉक्स में Tick ☒
का निशान लगायें।
Mark Tick ☒
in appropriate
box in front
of question no.

GENERAL STUDIES-I	
Time 3:00 hrs.	Full Marks- 300

70th BPSC MAINS TEST SERIES 100% FREE

Space For Rough Work

61.

रफ़ कार्य के लिए स्थान

70th BPSC MAINS TEST SERIES 100% FREE

Space For Rough Work

62.

रफ़ कार्य के लिए स्थान